



БОЛОВСРОЛ,
ШИНЖЛЭХ УХААНЫ ЯАМ



БОЛОВСРОЛ, ШИНЖЛЭХ УХААНЫ ЯАМ
БОЛОВСРОЛЫН ҮНЭЛГЭЭНИЙ ТӨВ

ГҮЙЦЭТГЭЛИЙН ҮНЭЛГЭЭ-2024 СУУРЬ БОЛОВСРОЛ

7
АНГИ

МЭДЭЭЛЛИЙН ТЕХНОЛОГИ

ХУВИЛБАР А

Аймаг / дүүрэг:

Сум / сургууль:

Анги / бүлэг:

Сурагчийн овог:

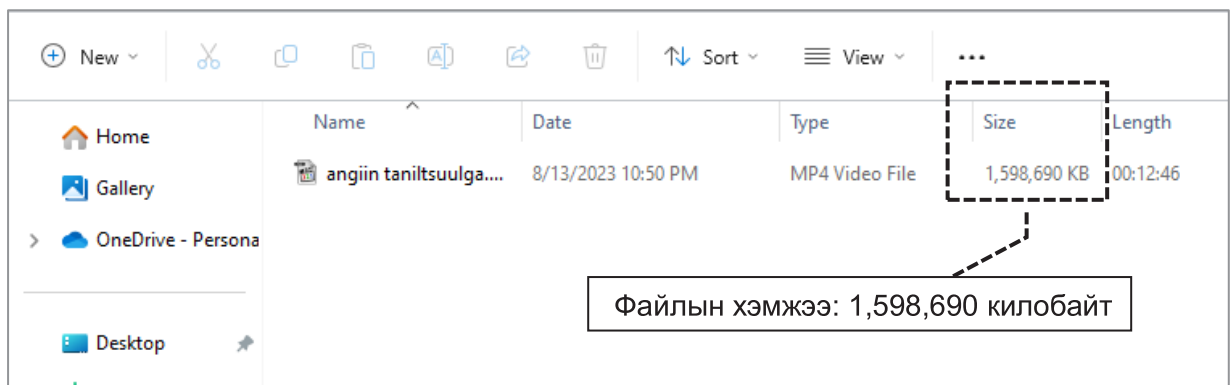
Сурагчийн нэр:

Сурагчийн код:

САНАМЖ

- Даалгаврыг 40 минутад гүйцэтгээрэй.
- Даалгавар тус бүрээс зөвхөн нэг хариултын хувилбарыг сонгож, хариултын хуудсанд зааврын дагуу харандаагаар будаарай.

1. Миний дэлгүүрээс худалдан авсан бараа тус бүрийн үнэ болон нийт төлбөрийн мэдээлэл хаана хадгалагдах вэ?
A. төлбөрийн баримтад
B. тархинд
C. барааны үнийн цаасан дээр
D. bar code уншигч дээр
2. Сурагч Б компьютерт 23 гэсэн тоог шивж оруулав. Компьютерын ойлгох хэлээр илэрхийлээрэй.
A. 10101 B. 10111 C. 11101 D. 11111
3. Сурагч Б ангийнхаа танилцуулгын видеог багшаасаа хуулж авахаар болов. Түүнд хамгийн багадаа хэдэн гигабайт /GB/ хэмжээтэй зөөврийн хуруу диск хэрэг болохыг сонгоно уу.



- A. 2 GB B. 4 GB C. 2000 GB D. 4000 GB
4. Компьютерт бичвэр мэдээлэл оруулахад ямар төхөөрөмж 0, 1 -рүү хөрвүүлдэг вэ?
A. боловсруулах төхөөрөмж B. гаралтын төхөөрөмж
C. оролтын төхөөрөмж D. хадгалах төхөөрөмж
 5. Сурагч Х 3 GB датанаас 3076 MB-г хэрэглэсэн бол хэдэн KB дата илүү хэрэглэсэн бэ?
A. 4 KB B. 3073 KB C. 3079 KB D. 4096 KB
 6. Сурагч Б дараах хэмжээтэй 2 файлыг зөөвөрлөхөөр болов. Түүнд ямар хэмжээтэй, хадгалах төхөөрөмж тохиромжтой болохыг сонгоно уу.



Зурган файлын хэмжээ - 1,675,425 килобайт /kb/.



Видео файлын хэмжээ - 2,451 мегабайт /mb/.

- A. CD 7 GB
B. DVD 6 GB
C. Флаш диск 4 GB
D. Флаш диск 7 GB

7. Номин аавынхаа компьютерт флаш диск залган даалгавраа хуулж авахаар болов. Флаш дискийг залгахад дэлгэцэн дээр харилцах цонх гарч ирсэн бол ямар сонголтоор вирусийг нь шалгах вэ?

- A. Close – командыг сонгоно.
- B. Scan for – командыг сонгоно.
- C. Minimize – командыг сонгоно.
- D. Eject командыг сонгоно.

8. Багш баримт бичиг боловсруулах программ дээр цаасны хэмжээг А5 болгох даалгавар өгөв. Ямар командаар цаасны хэмжээг тохируулах вэ?

- A. [Page Layout] → [Orientation]
- B. [Page] → [Size]
- C. [Insert] → [Page Setup] → [Size] → [A5]
- D. [Page Layout] → [Page Setup] → [Size]

9. Баримт бичиг боловсруулах программд зураг оруулах командыг зөв дараалалд оруулна уу.

1. Зургаа сонгох
2. Зураг оруулах талбараа сонгох
3. Insert товчийг даргах
4. [Insert] → [illustrations] → [Pictures]
5. Оруулах зургийг хайж олох





- A. 2-1-4-5-3 B. 4-1-5-3-2 C. 4-2-1-5-3 D.2-4-5-1-3

10. Дараах хүснэгтэд **НОМ** гэж бичсэн нүдэнд ямар команд ашигласан бэ?

№	НОМ	
1.		
2.		

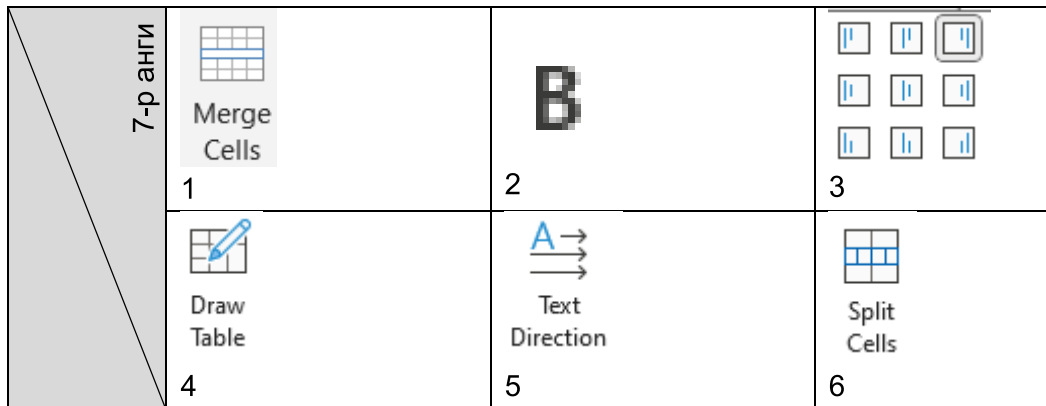
- A. Cell Margins
- B. Split Cells
- C. Merge Cells
- D. Split Table

11. Баримт бичиг боловсруулах программын командуудыг үүрэгтэй нь зөв харгалзуулна уу.

1.  Margins a. Цаасны хэмжээ тохируулах
2.  Orientation b. Багана болгох хуваах
3.  Size c. Цаасны захаас авах хэмжээ тохируулах
4.  Columns d. Цаасыг босоо эсвэл хөндлөн болгох

- A. 1a, 2b, 3d, 4c B. 1c, 2d, 3a, 4b C. 1b, 2a, 3c, 4d D.1b, 2d, 3a, 4c

12. Будагдсан нүдэнд ямар командууд ашигласан бэ?

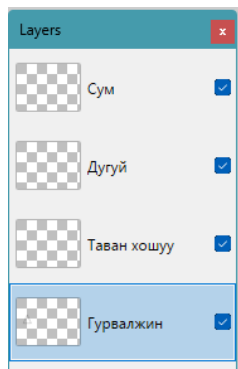


- A. 1, 2, 4, 5 B. 2, 3, 4, 6 C. 1, 3, 4, 5 D. 2, 3, 5, 6

13. Сурагч Ж интернэтээс зураг татан авч, Paint.NET программ дээр түүнтэй ижил зураг зурахаар болов. Гэвч эх зургийн өнгийг олж чадахгүй байв. Түүнд туслахын тулд аль хэрэгслийг санал болгох вэ?

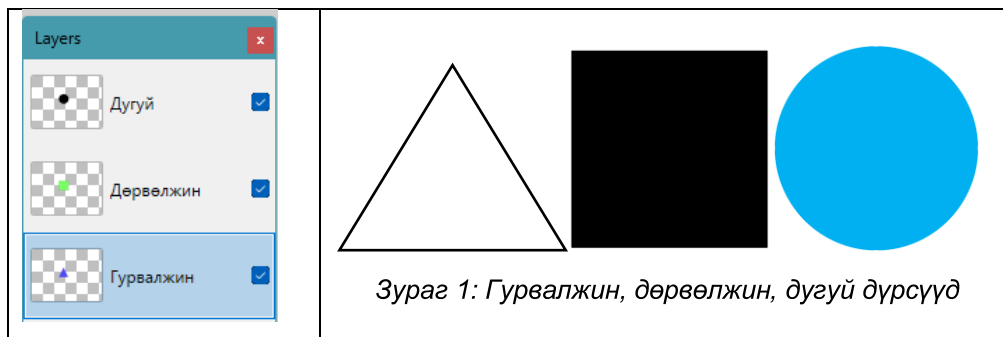
- A. B. C. D.

14. Paint.NET программын давхаргыг дараах байдалтай давхарлан байрлуулсан бол аль давхарга /layer/ хамгийн наана харагдах вэ?




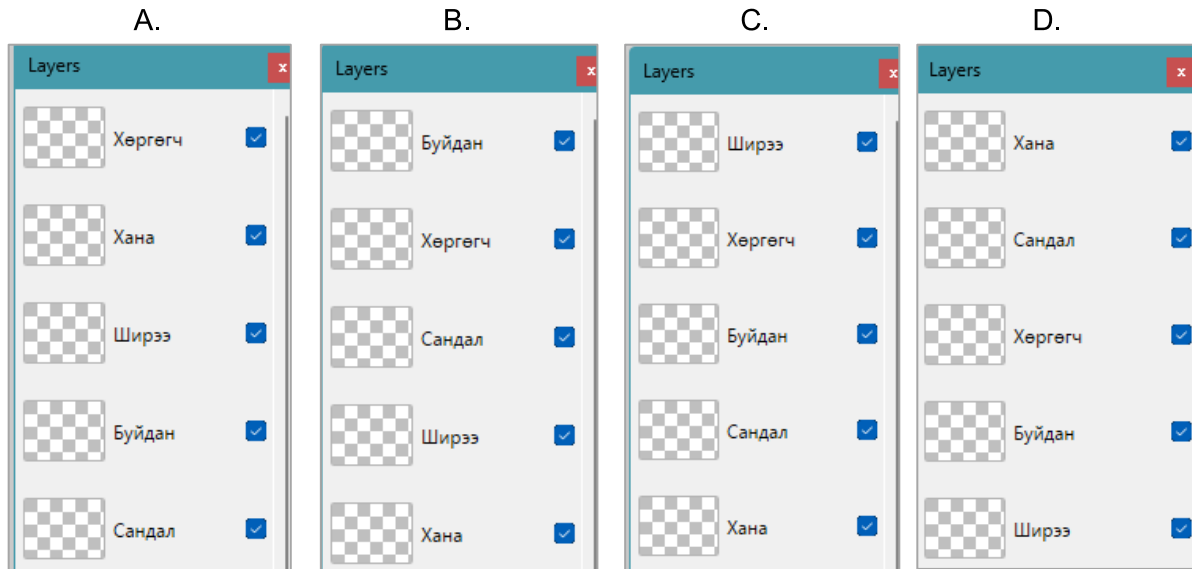
- A. Сум
 B. Дугуй
 C. Таван хошуу
 D. Гурвалжин

15. Өгөгдсөн гурван дүрсийг гурвалжин, дөрвөлжин, дугуй гэсэн дарааллаар дээр дээрээс нь давхарлан тавихад үүсэх дүрсүүдийн үр дүнг сонгоно уу.



- A. B. C. D.

16.  командыг ашиглаад хана болон ширээ давхаргыг нэгтгэх шаардлагатай бол давхаргыг зөв байрлуулсан хэсгийг сонгоно уу.



17. Paint.NET программд давхарга бүхий зураг боловсруулахад түгээмэл хийгдэх үйлдлүүдийг зөв харгалзуулна уу.


- | | |
|---|---------------------------------|
| 1. Давхаргад зургийн файл оруулах команд | a. Pixel size: Resolution |
| 2. Зургийн файлын төрлийг өөрчилж хадгалах команд | b. File → Save As... |
| 3. Зургийг хэвтээ тэнхлэгийн дагуу эргүүлэх команд | c. Layers → Import From File... |
| 4. Шинэ хуудас нээхдээ цэгийн нягтралыг тохируулах талбар | d. Image → Flip Vertical |

- A. 1b, 2c, 3a, 4d
 B. 1c, 2a, 3d, 4b
 C. 1c, 2b, 3d, 4a
 D. 1b, 2a, 3c, 4d

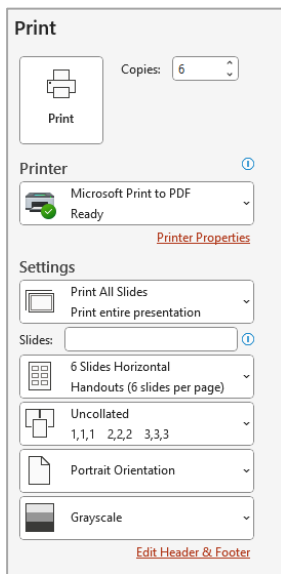
18. Сурагч А “Миний нэг өдөр” сэдвийн хүрээнд танилцуулга бэлтгэхээр болов. Түүнд тохиромжтой программыг сонгоно уу.

- A. Microsoft Word
 B. Microsoft PowerPoint
 C. Microsoft Paint
 D. Paint.NET

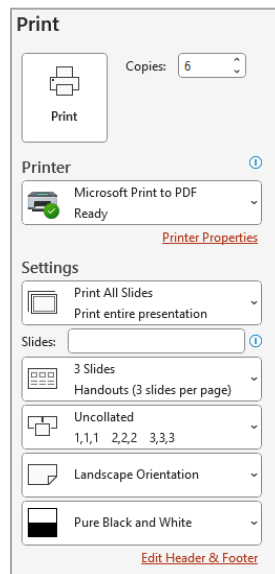
19. Дараах хэвлэх командуудаас аль нь А4 босоо горимд, зургаан слайдтайгаар, саарал өнгөтэй, зургаан хувь хэвлэх тохиргоо вэ?



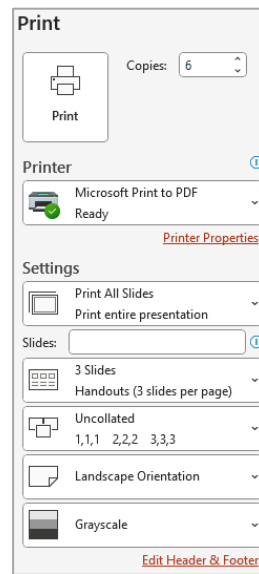
A.



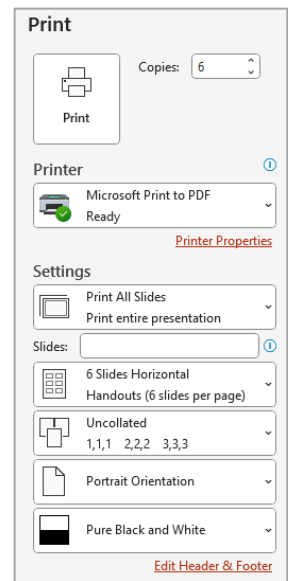
B.



C.



D.



20. Танилцуулга боловсруулахад хийгддэг түгээмэл үйлдлүүд, командыг хэсэг тус бүрээс сонгоно уу.

1. Дараагийн хуудас руу шилжих хугацааг тохируулах хэсэг	a. Transitions → After: ... b. Transitions → Duration: ...
2. Объектод онцлог хөдөлгөөн оруулах хэсэг	a. Animations → Emphasis ... b. Animations → Motion Paths ...
3. Слайдыг хуудасны тэмдэглэлтэй хэвлэх тохиргоо	a. File → Print → Full Page Slides b. File → Print → Notes Pages
4. Танилцуулгыг эхнээс нь тоглуулах товчлуур	a. F5 b. Ctrl + F5

A. 1a, 2a, 3a, 4b

B. 1b, 2b, 3a, 4b

C. 1b, 2b, 3b, 4a

D. 1a, 2a, 3b, 4a