



БОЛОВСРОЛ,  
ШИНЖЛЭХ УХААНЫ ЯАМ



БОЛОВСРОЛ, ШИНЖЛЭХ УХААНЫ ЯАМ  
БОЛОВСРОЛЫН ҮНЭЛГЭЭНИЙ ТӨВ

## ГҮЙЦЭТГЭЛИЙН ҮНЭЛГЭЭ-2024 БАГА БОЛОВСРОЛ



# МАТЕМАТИК

БАГАНАН КОД  
НААХ ХЭСЭГ

Аймаг / дүүрэг: .....

Сум / сургууль: .....

Анги / бүлэг: .....

Сурагчийн овог: .....

Сурагчийн нэр: .....


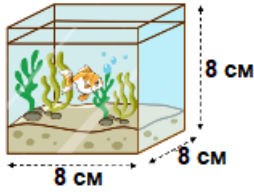
Сурагчийн код: .....



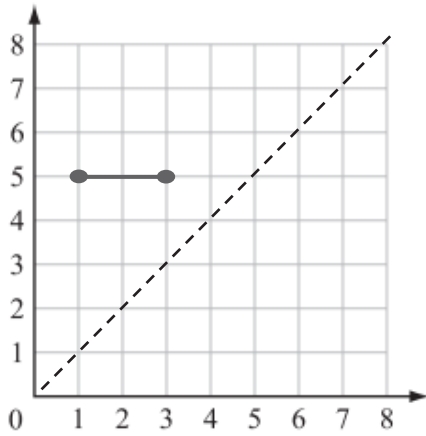


9

Куб хэлбэртэй шилэн хоргоны ирмэг 8 см бол түүний эзлэхүүнийг олоорой.



10



Хэрчмийг өгсөн шулууны хувьд тэгш хэмтэйгээр хувиргаарай.



Засалтын хүснэгт

даалгаврын дугаар	авсан оноо
I	
II	
III	
IV	
V	
VI	
VII	
VIII	
IX	
X	

