



БОЛОВСРОЛ,
ШИНЖЛЭХ УХААНЫ ЯАМ



БОЛОВСРОЛ, ШИНЖЛЭХ УХААНЫ ЯАМ
БОЛОВСРОЛЫН ҮНЭЛГЭЭНИЙ ТӨВ

ГҮЙЦЭТГЭЛИЙН ҮНЭЛГЭЭ-2024 БАГА БОЛОВСРОЛ

1
АНГИ

МАТЕМАТИК

БАГАНАН КОД
НААХ ХЭСЭГ

Аймаг / дүүрэг:

Сум / сургууль:


Анги / бүлэг:

Сурагчийн овог:

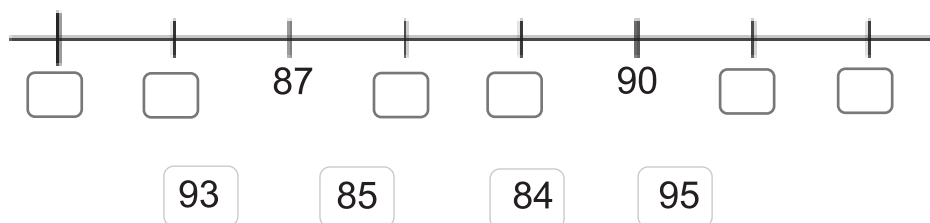
Сурагчийн нэр:

Сурагчийн код:

1 Асуултын тэмдгийн оронд тохирох тоог бичээрэй.



2 Тоон шулуунд тохирох тоог олж дугуйлаарай.



3 Зурагт хэдэн хэрчим байна вэ?




4 Зургийг ажиглаад, зөвийг сонгож гэж тэмдэглээрэй.



харандаа богино цаг богино тэнцүү урттай

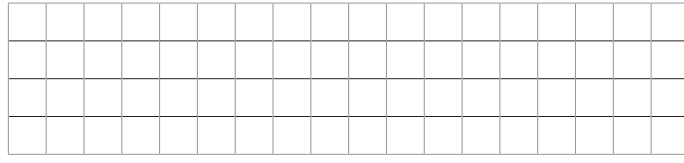

5 Ижил дүрс ижил тоо илэрхийлнэ. Тохирох тоог олоорой.

 +  = 20
  +  = 35
  = ?

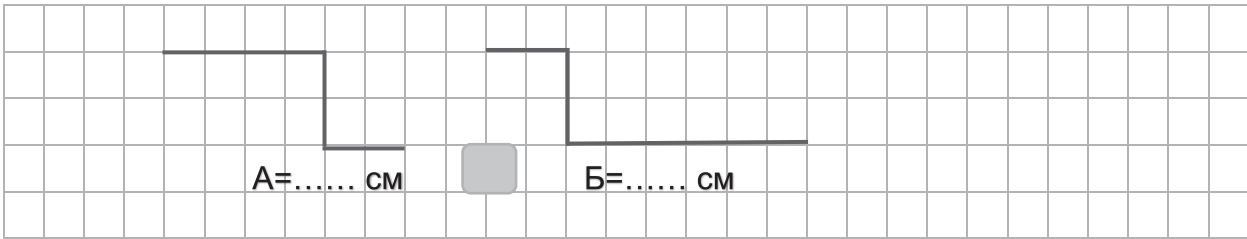





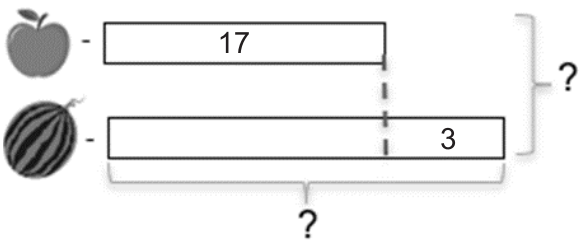
6 4 хайрцагт нийт 80 ширхэг харандаа байснаас хайрцаг тус бүрд үлдсэн харандааг зурагт харуулав. Хэдэн харандааг хэрэглэсэн бэ?



7 А болон Б тахир шугамын уртыг жишээрэй. /2 нүд=1 см /



8 Зураглалд тохирох бодолт хийгээрэй.





Засалтын хүснэгт

даалгаврын дугаар	авсан оноо
I	
II	
III	
IV	
V	
VI	
VII	
VIII	