



БОЛОВСРОЛ,  
ШИНЖЛЭХ УХААНЫ ЯАМ



БОЛОВСРОЛ, ШИНЖЛЭХ УХААНЫ ЯАМ  
БОЛОВСРОЛЫН ҮНЭЛГЭЭНИЙ ТӨВ

## ГҮЙЦЭТГЭЛИЙН ҮНЭЛГЭЭ-2024 СУУРЬ БОЛОВСРОЛ



# ДҮРСЛЭХ УРЛАГ

Аймаг / дүүрэг: .....

Сум / сургууль: .....

Анги / бүлэг: .....

Сурагчийн овог: .....

Сурагчийн нэр: .....

Сурагчийн код: .....

**САНАМЖ**

- Даалгаврыг 40 минутад хийж гүйцэтгээрэй.
- Зөв гэж үзсэн нэг хариуг сонгож, хариултын хуудсанд зааврын дагуу харандаагаар будаарай.

1. Доорх өнгийн хүрдний тодоор харагдаж буй өнгөнүүд нь ямар өнгө вэ?



- A. эрс тэс
- B. хүйтэн
- C. эсрэг өнгө
- D. ойролцоо өнгө

2. Дараах өнгөний зохиомжуудыг ажиглаарай. Дулааны ойролцоо өнгөний зохиомжийг сонгоно уу.



A



B



C



D

3. Доорх бүтээлийг ямар өнгийн зохицлоор хийсэн байна вэ?




- A. ойролцоо хүйтэн өнгө
- B. дулаан, хүйтэн өнгийн хослол
- C. ойролцоо дулаан өнгө
- D. дулааны эсрэг өнгө

4. Уран бүтээлч С.Батцэцгийн “Олдвор” бүтээл ямар аргаар зурсан бэ? Зөв хариуг сонгоно уу.




- A. толболох арга
- B. зурааслах арга
- C. цэглэх арга
- D. толбо болон зурааслах арга


5. Тодорхой дүрсийг хүрээлэх байдлаар зураасаар давтамж үүсгэн зурсан зохиомжийг сонгоно уу.



A.



B.



C.



D.

6. Дараах зохиомжуудаас дүрс цэглэл болж харагдах тохиолдлыг сонгоно уу.



A



B



C



D


7. Гурван цэгийн алслалтаар зурсан зургийг сонгоно уу.



A.



B.



C.



D.

8. Өнгийн алслалтаар зурсан зургийг сонгоно уу.



A



B



C



D

9. Сургуулийнхаа 1-р ангийн 6 настай хүүхдүүдэд зориулан тэднийг цаасан дээр зурж зургийг нь бэлэглэхээр болов. Харин тэднийг зурахдаа биеийн ерөнхий харьцааг ямар нэгжээр хэмжиж, биеэс хэмжээ авах вэ?

A. биеийн жин    B. биеийн өндөр    C. толгойн өндөр    D. туузан метр


10. Бөмбөрцөгийн гэрэл сүүдрийг цэглэх аргаар зурсан зургийг сонгоно уу.



A



B




C



D

11. Зурагт зурааслах аргаар ямар ялгамжийг харуулсан байна вэ? Зөв хариуг сонгоно уу.



- A. гэрэл сүүдрийн ялгамж
- B. зурааслалын ялгамж
- C. өнгийн ялгамж
- D. зохиомжийн ялгамж

12. Натюрмортын гэрэл сүүдрийг илэрхийлэхдээ ямар будаг, арга техникийг ашигласан бэ? Зөв хариуг сонгоно уу.



- A. өнгийн харандаагаар цэглэж
- B. гуашаар уусгаж будсан
- C. усан будгаар уусгаж будсан
- D. гуашаар дагнааслан будсан

13. Цэгийн оронд тохирох хариуг сонгоно уу.

Антиква уран бичлэгийн үсэг бүр тодорхой байгуулалт хэмжээ харьцаатай бөгөөд үсгийн дээд, доод талд ..... ашиглан зурж байгуулдаг онцлогтой.

- A. дөрвөлжин байгуулалт
- B. тойргийн байгуулалт
- C. гурвалжин байгуулалт
- D. зураасны байгуулалт

14. Бар зураг анх Хятад улсад үүссэн гэж үздэг. Бар зургийн дардсыг ямар аргаар хийдэг вэ? Зөв хариуг сонгоно уу.

- A. хөөлгөх
- B. товойлгох
- C. ухах
- D. хотойлгох

15. Доорх бүтээлүүдээс хулдаасан бар зургийг сонгоно уу.



A



B



C



D

16. Гол дүрийг томоор дүрсэлж, үйл явдлыг хүүрнэн өгүүлэх хэлбэрээр илэрхийлсэн задгай зохиомжтой монгол зургийн аргаар зурсан зураг аль нь вэ?




A.



B.



C.




D.

17. Дараах монгол зураг хэний зурсан ямар нэртэй бүтээл вэ?




- А. “Үлэмжийн чанар” М.Уранбэрх  
 В. “Уургач” Б.Сэнгэцохио  
 С. “Айрагны баяр” Б.Шарав  
 D. “Монгол наадам” До.Болд

18. Дараах уран бүтээл хэний зурсан ямар нэртэй бүтээл вэ?



- А. Ү.Ядамсүрэн “Жин үд”  
 В. О.Цэвэгжав “Тэмээн жин”  
 С. Г.Одон “Ажлын дараа”  
 D. Л.Гаваа “Кино механикч”

19. Леонарда да Винчигийн “Сүүлчийн оройн зоог” алдарт бүтээл аль сүмийн ханан дээр зурагдсан байдаг вэ?



- А. Ромын Гэгээн Петрийн сүм  
 В. Сикстиний сүм  
 С. Миланы Гэгээн Мария сүм  
 D. Францын Луврын музей

20. Бодит юмсыг тун адилхан, төгс дүрслэхийг зорилгоо болгодог урлагийн чиг хандлагыг сонгоно уу.

- А. Кубизм  
 В. Реализм  
 С. Импрессионизм  
 D. Символизм