



БОЛОВСРОЛ,  
ШИНЖЛЭХ УХААНЫ ЯАМ



БОЛОВСРОЛ, ШИНЖЛЭХ УХААНЫ ЯАМ  
БОЛОВСРОЛЫН ҮНЭЛГЭЭНИЙ ТӨВ

## ГҮЙЦЭТГЭЛИЙН ҮНЭЛГЭЭ-2024 БАГА БОЛОВСРОЛ

**3**  
АНГИ

# ДҮРСЛЭХ УРЛАГ, ТЕХНОЛОГИ

БАГАНАН КОД  
НААХ ХЭСЭГ

Аймаг / дүүрэг: .....

Сум / сургууль: .....

Анги / бүлэг: .....

Сурагчийн овог: .....

Сурагчийн нэр: .....

Сурагчийн код: .....

### САНАМЖ

- Даалгаврыг 40 минутад гүйцэтгээрэй.
- Сурагчид балын болон өнгийн харандаа, нугалаас үүсгэх ам дөрвөлжин цаас, цавуу бэлтгэсэн байна.

1. Дараах жимснүүдийн аль нь хүйтэн өнгөтэй байна вэ? Зөв хариуг сонгож дугуйлаарай.



А



Б



В




Г

2. Аль зураг нь толболон зурах аргаар зурсан байна вэ? Зөв хариуг сонгож дугуйлаарай.



А



Б



В



Г


3. Зургийг ажиглаарай. Зурагт тохирох зураасны төрлийг сонгож холбоорой.



4. Зургуудыг сайтар ажиглаад, хийсвэр зургийг сонгож дугуйлаарай.



А



Б



В



Г


5. Зургийг сайн ажиглаад гол дүр нь зургийн хавтгайн аль хэсэгт нь байрласан байна вэ? Зөв хариултыг сонгоорой.



“Миний төрсөн өдөр” Олега 6 настай

- А. Зургийн хавтгайн дээд хэсэгт
- Б. Зургийн хавтгайн доод хэсэгт
- В. Зургийн хавтгайн зүүн хэсэгт
- Г. Зургийн хавтгайн баруун хэсэгт


6. Гурван өнгийн дагнаас үүсгэхэд цагаан хэсгийг ямар өнгөөр будах вэ? Зөв хариуг сонгож дугуйлаарай.



А



Б



В



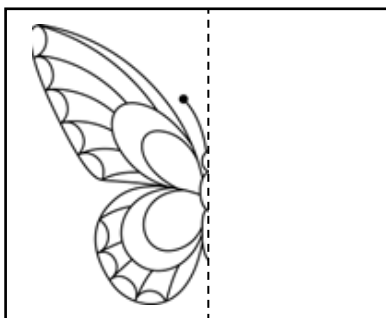
Г

7. Өнгийн дагнаасыг ажиглаарай. Мэдээллийн хэсэгт байгаа хоосон зайд тохирох үгийг нөхөж бичээрэй.



Дагнаасыг дэвсгэрийн өнгөөс ялгарч харагдуулахын тулд дагнаасын хөнгөн өнгөтэй хэсгийн гадуур ..... өнгөөр зурвас татдаг.

8. Дараах эрвээхэйн зургийг тэгш хэмтэйгээр бүтэн болгох зураг аль вэ? Зөв хариуг сонгож дугуйлаарай.



А



Б





В

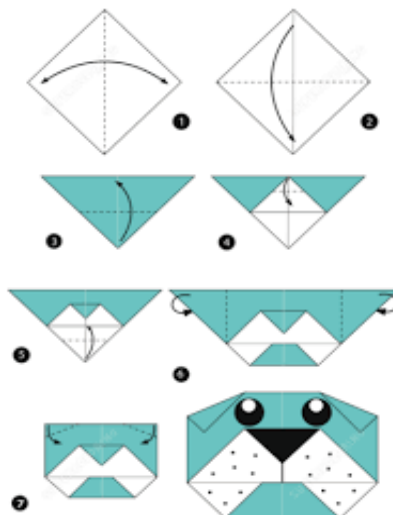


Г

9. Дараах дүрсүүдээр ашиглан байшингийн загвар бүтээж зураарай.



10. Ам дөрвөлжин цаасыг зааврын дагуу нугалж, амьтан бүтээгээрэй.  
Бүтээсэн амьтнаа тохирох хэсэгт наагаарай.



Бүтээл наах хэсэг



### Засалтын хүснэгт

Даалгаврын дугаар	Авсан оноо
I	
II	
III	
IV	
V	
VI	
VII	
VIII	
IX	
X	
XI	
XII	