



БОЛОВСРОЛ,
ШИНЖЛЭХ УХААНЫ ЯАМ



БОЛОВСРОЛ, ШИНЖЛЭХ УХААНЫ ЯАМ
БОЛОВСРОЛЫН ҮНЭЛГЭЭНИЙ ТӨВ

ГҮЙЦЭТГЭЛИЙН ҮНЭЛГЭЭ-2024 БАГА БОЛОВСРОЛ

4
АНГИ

ДҮРСЛЭХ УРЛАГ, ТЕХНОЛОГИ

БАГАНАН КОД
НААХ ХЭСЭГ

Аймаг / дүүрэг:

Сум / сургууль:

Анги / бүлэг:

Сурагчийн овог:

Сурагчийн нэр:

Сурагчийн код:

САНАМЖ

- Даалгаврыг 40 минутад гүйцэтгээрэй.
- Сурагчид балын болон өнгийн харандаа, шугам бэлтгэсэн байна.

1. Аль амьтныг эсрэг өнгөөр будсан байна вэ? Зөв хариуг сонгож дугуйлаарай.



А



Б



В



Г

2. Зураг дээрх навчнаас үүссэн толбыг сонгож дугуйлаарай.



А



Б



В



Г

3. Зургийг ажиглаад, ямар материал ашиглан зурсан байна вэ? Зөв холбоорой.




Хурууны хээ ашиглан
толболон зурсан

Сав угаагч ашиглан
толболон зурсан

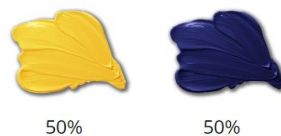

Алим ашиглан
толболон зурсан

4. Эсрэг өнгийг хооронд нь холиход ямар өнгө үүсэх вэ? Тохирох өнгийг холбоорой.



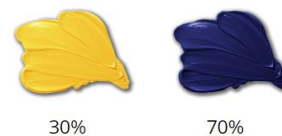

70%

30%




50%

50%



30%

70%



5. Нэг төвт зохиомжийн аргаар зурсан зураг аль нь вэ? Зөв хариуг сонгож дугуйлаарай.



А



Б




В



Г


6. Дүрсийн хэмжээг өөрчилж байршуулаад алслалтыг харуулсан зураг аль нь вэ? Зөв хариуг сонгож дугуйлаарай.




А



Б


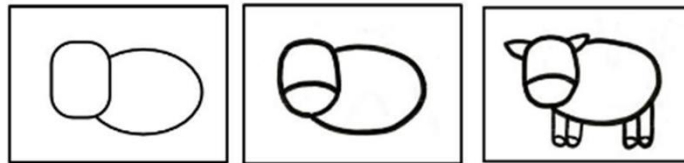


В




Г


7. Ямар амьтны бүдүүвч зураг вэ? Зөв хариуг сонгож дугуйлаарай.




А



Б



В



Г

8. Зургийг ажиглаарай. Зурагтай холбоотой үнэн хоёр өгүүлбэрийг олж дугуйлаарай.




А. Зурагт эмээлтэй цагаан тэмээ байна.

Б. Зурагт улаан даашинзтай эмэгтэй хувин барьсан байна.

В. Зургийн төв хэсэгт гол дүрийг хүүгийн хамт зурсан байна.

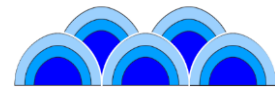


Г. Зурагт тоглож байгаа хүүхдүүдийг зурсан.

9. Улаан дэвсгэр дээр зурсан зургийг ямар зураг гэдэг вэ? Зөв хариуг сонгож дугуйлаарай.



- А. Мартан зураг
- Б. Хар зураг
- В. Өнгөт зураг
- Г. Нагтан зураг


10. Монгол зургийн аргаар зурсан уул, үүл, усны зургийг чимэглэлийн зурагтай нь зөв холбоорой.



11. Цаасан материалын шинж чанарыг сонгож дугуйлаарай.

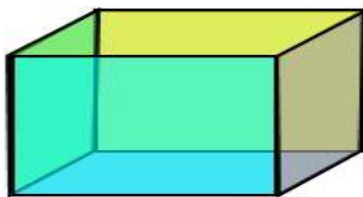
- А. хөнгөн, нимгэн, уян хатан
- Б. хөнгөн, зузаан, уян хатан
- В. хүнд, нимгэн, уян хатан
- Г. хөнгөн, нимгэн, хатуу

12. Дараах бүтээлийг ажиглаад хийсэн аргыг нь сонгож дугуйлаарай.




- А. Нааж холбох аргаар
- Б. Үдэж тогтоох аргаар
- В. Тэгш хэмийн аргаар
- Г. Сэтэлж хайчилж угсрах аргаар

13. Тэгш өнцөгт биетийн дэлгээсийг зураарай. Талуудыг өгөгдсөн өнгөөр будаарай.



14. Авто машины загварт салхины хүч ашиглан хөдөлгөөн хийх шийдлийг нэмж зураарай. Зурсан загвараа тайлбарлаж бичээрэй.



Тайлбар:

.....

.....

.....



Засалтын хүснэгт

Даалгаврын дугаар	Авсан оноо
I	
II	
III	
IV	
V	
VI	
VII	
VIII	
IX	
X	
XI	
XII	
XIII	
XIV	