



БОЛОВСРОЛ,
ШИНЖЛЭХ УХААНЫ ЯАМ



БОЛОВСРОЛ, ШИНЖЛЭХ УХААНЫ ЯАМ
БОЛОВСРОЛЫН ҮНЭЛГЭЭНИЙ ТӨВ

ГҮЙЦЭТГЭЛИЙН ҮНЭЛГЭЭ-2024 СУУРЬ БОЛОВСРОЛ



ДҮРСЛЭХ УРЛАГ

Аймаг / дүүрэг:

Сум / сургууль:

Анги / бүлэг:

Сурагчийн овог:

Сурагчийн нэр:

Сурагчийн код:

САНАМЖ

- Даалгаврыг 40 минутад хийж гүйцэтгээрэй.
- Зөв гэж үзсэн нэг хариуг сонгож, хариултын хуудсанд зааврын дагуу харандаагаар будаарай.

1. Монголчууд ямар өнгийг мөнхийн амьдрал, тайван амгаланг бэлгэддэг гэж үздэг вэ?

- A. улаан B. шар C. хөх D. ногоон


2. Өнөржин баяжихын эх, ариун сэтгэл, цэвэр цэмцгэр байдлыг илтгэдэг өнгө аль нь вэ?

- A. цагаан B. шар C. хөх D. ногоон

3. Дараах дагнаасны зургуудаас аль нь их дагнаас вэ?



4. Зураач Б.Санжидын “Манханта говийн манлай” бүтээлд ямар өнгийн зохицол илүү давамгайлсан байна вэ?



- A. хүйтэн өнгөнүүдийн зохицол
B. бараан өнгөнүүдийн зохицол
C. эрс, тэс өнгөнүүдийн зохицол
D. дулаан өнгөнүүдийн зохицол


5. Хурц догшин байдлыг илтгэдэг зураасны төрлийг сонгоно уу.

- A. шулуун B. тахир C. долгионтой D. нуман


6. Хөдөлгөөнтэй, намжуу аястай, уян харимхай чанарыг илтгэдэг зураасны төрлийг сонгоно уу.

- A. шулуун B. тахир C. долгионтой D. нуман

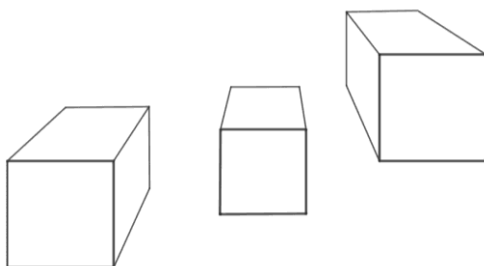
7. Морийг ямар аргаар зурсан байна вэ? Зөв хариуг сонгоно уу.



- A. биеийн гадаад хэлбэрийг дуурайлган
B. биеийн хэмжээ, харьцааг баримжаалан
C. таталбар зургийн аргаар
D. судалбар зургийн аргаар

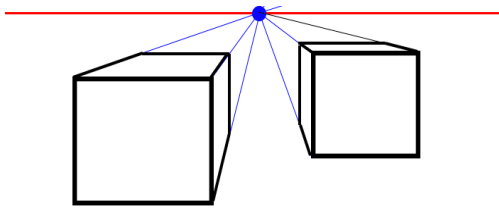


8. Биетүүдийг хэдэн цэгийн алслалтаар зурсан бэ? Зөв хариуг сонгоно уу.



- A. нэг цэгийн алслалт
B. хоёр цэгийн алслалт
C. гурван цэгийн алслалт
D. алслалт байхгүй

9. Кубыг нэг цэгийн алслалтын аргаар харааны ямар түвшинд дүрсэлсэн бэ?



- A. харааны түвшний дээр
- B. харааны түвшний доор
- C. харааны түвшинд
- D. харааны түвшинд байршаагүй

10. Үсгийн урлагийг хэд ангилдаг вэ?

- A. 2
- B. 3
- C. 4
- D. 5

11. Үсгийн хэлбэр, онцлогийг ажиглан уран сайхнаар илэрхийлээгүй үсгийг сонгоно уу.



12. Монголын орчин үеийн шог хошин зургийн эх суурийг тавьсан төлөөлөгч хэн бэ?

- A. Ц.Байды
- B. Н.Оргил
- C. Б.Шарав
- D. Ц.Доржготов

13. Дараах зураг нь сэдэв агуулгын хувьд шог хошин зургийн ямар төрөлд хамаарах вэ?
Зөв хариуг сонгоно уу.



- A. улс төрийн шог
- B. таталбар зураг
- C. хошин хөрөг
- D. наргиа зураг

14. Зураач Б.Төмөрбаатар “Гачуурт” бүтээлд голлон ашигласан өнгийн зохицлыг сонгоно уу.



- A. өнгийн алслалт
- B. өнгийн дагнаас
- C. өнгийн хоршил
- D. өнгийн харшил

15. Монгол үндэсний хээ угалзын урлагийг хөгжүүлэхэд үнэтэй хувь нэмэр оруулсан алдарт зураачийг сонгоно уу.

- A. О.Цэвэгжав
- B. Д.Манибадар
- C. Ү.Ядамсүрэн
- D. Г. Одон

16. Амьтны гаралтай хээ угалзыг сонгоно уу.



A



B



C



D

17. Алт, мөнгө, хөөмөл, цутгуурын арга нь ардын гар урлалын аль төрөлд хамаарах вэ?

A. модон урлал

B. шуумал, зүмбэр

C. арьс ширэн урлал

D. дархны урлал

18. Доорх бүтээлүүдээс ардын гар урлалын төрөлд хамаарах бүтээлийг сонгоно уу.



A



B



C



D

19. НТӨ II мянганы эхэн үеэс амьтан зурах, сийлэх арга нь хадны зурагт төдийгүй хүрэл эдлэлд хэрэглэгдэх болж, төмрийн үеийн урлагийн хөгжлийн шинэ шатанд шилжсэн гэж үздэг. Төмөр зэвсгийн үеийг төлөөлөх зураг дүрслэлийг сонгоно уу.




A.



B.



C.



D.

20. Ромын үеийн бүтээл нь уран баримлын хийцийн ямар төрөлд хамаарах вэ?



A. хавтгай

B. хагас

C. бүтэн

D. ингэмэл