



БОЛОВСРОЛ,
ШИНЖЛЭХ УХААНЫ ЯАМ



БОЛОВСРОЛ, ШИНЖЛЭХ УХААНЫ ЯАМ
БОЛОВСРОЛЫН ҮНЭЛГЭЭНИЙ ТӨВ

ГҮЙЦЭТГЭЛИЙН ҮНЭЛГЭЭ-2023 СУУРЬ БОЛОВСРОЛ



ДҮРСЛЭХ УРЛАГ

ХУВИЛБАР А

Аймаг / дүүрэг:

Сум / сургууль:

Анги / бүлэг:

Сурагчийн овог:

Сурагчийн нэр:

Сурагчийн код:

САНАМЖ

- Даалгаврыг 40 минутад хийж гүйцэтгээрэй.
- Зөв гэж үзсэн нэг хариуг сонгож, хариултын хуудсанд зааврын дагуу харандаагаар будаарай.


1. Хар цагаан түүнээс үүсэх саарал өнгөнүүдийг ямар өнгө гэх вэ?

- A. ахромат В. хромат С. ханасан өнгө D. зонхилох өнгө

2. Өнгө харилцан нийлэмжтэй болж зохицохыг юу гэж нэрлэх вэ?

- A. өнгийн дагнаас В. өнгийн хоршил, харшил
C. өнгийн ханалт D. өнгийн тон

3. Доорх зурагт юуг харуулсан байна вэ?



- A. өнгийн харшил
B. өнгийн хоршил
C. өнгийн ханалт
D. өнгийн дагнаас

4. Цэгийн оронд тохирох хариуг сонгоно уу.

Бүх өнгийн бүтцийг нийлэмж цогц болгож байгаа ерөнхий өнгийг гэнэ.

- A. зонхилох өнгө (колорит) В. өнгийн хоршил, өнгийн харшил
C. өнгийн ханалт D. өнгийн дагнаас


5. Хоёр цэгийн алслалтаар зурсан зургийг сонгоно уу.



6. Зургийн хавтгайн дээд хэсэгт харааны түвшний шулууныг байрлуулан зургийг сонгоно уу.



7. Зурагт үзүүлсэн цилиндрийн өндөр, өргөний хоорондын зөв харьцааг сонгоно уу.



- A. Цилиндрийн өргөн өндөртэйгөө тэнцүү.
B. Цилиндрийн өргөн өндрийн гуравны нэгтэй тэнцүү.
C. Цилиндрийн өргөн өндрийн талтай тэнцүү.
D. Цилиндрийн өндөр өргөний дөрөвний нэгтэй тэнцүү.

8. Биетийн гэрэлтэй хэсэгт зурааслах зөв аргыг сонгоно уу.

- A. Биетийн гэрэлтэй хэсэгт хөнгөн, нягт зурааслана.
B. Биетийн гэрэлтэй хэсэгт хүнд, нягт зурааслана.
C. Биетийн сүүдэртэй хэсэгт хөнгөн, сийрэг зурааслана.
D. Биетийн гэрэлтэй хэсэгт хөнгөн, сийрэг зурааслана.

9. Гротеск үсгийн бүтэц нь ямар зурааснаас бүтдэг вэ?




- A. Үндсэн ба холбох зураас
B. Холбох зураас
C. Үндсэн ба шулуун зураас
D. Үндсэн зураас

10. Цэгийн оронд тохирох хариуг сонгоно уу.

..... зураг гэдэг нь богино хугацаанд аливаа зүйлийн дүр төрх, гол санааг илэрхийлж, хурдан дүрсэлсэн уран зураглалыг хэлдэг.

- A. Таталбар зураг B. Судалбар зураг C. Бар зураг D. Уран зураг

11. Судалбар зургийн аргаар зурсан зургийг сонгоно уу.



12. Байгалийн үзэгдлийг харуулсан зураг нь хэний ямар нэртэй бүтээл вэ?



- A. Ц. Нарангэрэл “Намар”
B. М. Цэмбэлдорж “Цагийн сайхан”
C. Б. Чогсом “Говийн дуун”
D. Б. Гомбосүрэн “Борооны дараа”

13. Морины сүүлийг зурахад монгол зургийн ямар зураас тохиромжтой вэ?


- A. Самнаа B. Товшоо C. Толболох D. Цацлага

14. Цэгийн оронд тохирох хариуг сонгоно уу.

Зүмбэрийг бүхий л төрлийн материал ашиглаж хийхээс гадна болон хоёр төрлөөр урладаг.

- A. шахмал болон хэвлэмэл B. тосон болон хэвийн
C. гоёлын болон чимэглэлийн D. тосон болон шахмал

15. Шуумлын урлалаар хийсэн бүтээлийг сонгоно уу.



A



B



C



D

16. Шүтээн зургийг сонгоно уу.



A



B



C



D

17. Шүтээн зургийн онцлогийг сонгоно уу.


- A. Сонирхсон бүх хүн зурна
B. Үйчүүр, хэзрийн зураг зурж тоглодог
C. Домгийн, мал амьтан, аж байдал, үлгэр гэх зэрэг сэдвээр зурагдаг
D. Нагтан, гартан, мартан, сэртэн зургийн аргыг ашигладаг

18. XIV зууны үед зохиогдсон зурагт номын нэрийг сонгоно уу.



- A. Монголын эртний урлагийн түүх
B. Бурхан багшийн арван хоёр зохионгуй
C. Монголын нууц товчоо
D. Улаан сахиус

19. Готик хийцийн уран барилгыг сонгоно уу.



A



B



C



D

20. Дундад зууны үеийн Японы шинэ урсгалд хамаарах зургийг сонгоно уу.



A.



B.



C.



D.