



БОЛОВСРОЛ,
ШИНЖЛЭХ УХААНЫ ЯАМ



БОЛОВСРОЛ, ШИНЖЛЭХ УХААНЫ ЯАМ
БОЛОВСРОЛЫН ҮНЭЛГЭЭНИЙ ТӨВ

ГҮЙЦЭТГЭЛИЙН ҮНЭЛГЭЭ-2023 СУУРЬ БОЛОВСРОЛ



МЭДЭЭЛЛИЙН ТЕХНОЛОГИ

ХУВИЛБАР А

Аймаг / дүүрэг:

Сум / сургууль:

Анги / бүлэг:

Сурагчийн овог:

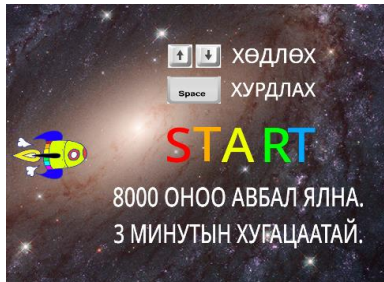
Сурагчийн нэр:

Сурагчийн код:

САНАМЖ

- Даалгаврыг 40 минутад гүйцэтгээрэй.
- Даалгавар тус бүрээс зөвхөн нэг хариултын хувилбарыг сонгож, хариултын хуудсанд зааврын дагуу харандаагаар будаарай.

1. Зурагт буй сурагчийн зохиосон тоглоомын тайлбарыг мэдээллийн ямар ямар хэлбэрээр дүрсэлснийг сонгоно уу.



- a. видео, бичвэр, тоо
- b. бичвэр, график, зураг
- c. бичвэр, зураг, тоо
- d. график, зураг, тэмдэгт

2. Мэдээллүүдийг дүрслэхэд тохиромжтой хэлбэртэй нь харгалзуулна уу.

- | | |
|-------------------------|------------------|
| 1. Төрийн далбаа | a. дуу |
| 2. Улс, нийслэлийн нэр | b. бичвэр |
| 3. Газар нутгийн хэмжээ | c. тоо ба бичвэр |
| 4. Төрийн дуулал | d. зураг |

- A. 1d,2b,3c,4a B. 1d,2c,3b,4a C. 1c,2d,3a,4b D. 1c,2d,3b,4a

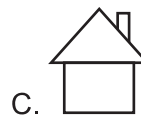
3. Объектуудаас аль нь хатуу шинж чанартай вэ?

- A. мазаалай B. шуурга C. ширээ D. сонин

4. Өгүүлбэрүүдээс загварын ангиллыг зөв тодорхойлсон өгүүлбэрийг сонгоно уу.

- A. Дэлхийн глобус бол мэдээллэн загвар
- B. Компьютер дээр бичсэн бичвэр бол материаллаг загвар
- C. Ангийн сурагчийн дүнгийн хүснэгт бол материаллаг загвар
- D. Эх орны тухай зохион бичлэг бол мэдээллэн загвар

5. Дараах өгөгдсөн дүрсүүдээс бүтсэн байшингийн загварыг сонгоно уу.



6. Би мэдээллийг оруулах, дэлгэц дээрх заагчийг удирдан команд болон үйлдлийг сонгох заах үүрэгтэй. Би хэн бэ?

- A. гар B. хулгана C. системийн блок D. дэлгэц

7. Компьютерын үндсэн төхөөрөмжийн ангиллыг үүрэг зориулалтаар нь харгалзуулна уу.

- | | |
|---------------------------|--------------------------------|
| 1. Оролтын төхөөрөмж | a. Дэлгэц |
| 2. Боловсруулах төхөөрөмж | b. Флаш диск |
| 3. Хадгалах төхөөрөмж | c. Хулгана |
| 4. Гаралтын төхөөрөмж | d. Төв боловсруулах байгууламж |

- A. 1c,2a,3b,4d B. 1a,2d,3b,4c C. 1c,2d,3b,4a D. 1c,2b,3d,4a

16. Зөв харгалзуулна уу.

- 1.
- 2.
- 3.
- 4.
- 5.

- a. Тодоор бичих
- b. Текстийн өнгө
- c. Доогуур зураастай бичих
- d. Үсгийн фонт, хэмжээ
- e. Налуугаар бичих

A. 1d,2b,3a,4c,5e

B. 1d,2b,3a,4e,5c

C. 1b,2d,3a,4e,5c

D. 1b,2d,3a,4c,5e

17. Аль нь сонгосон бичвэрийг мөрийн хойд тал буюу хуудасны баруун талд зэрэгцүүлэх вэ?

- A. Ctrl+L B. Ctrl+E C. Ctrl+R D. Ctrl+R

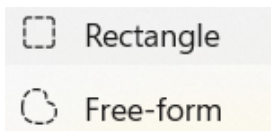
18. Эхийг ажиглаад тус 3 өгүүлбэрт ямар хэлбэржүүлэлт болон мөр зэрэгцүүлэлт хийх командыг ашигласан байна вэ?

Шувуудын онцлог

Монгол орны талын шувууд ихэвчлэн хүзүү, хөл урттай байдаг. Тэд өвс, газрын гадарга дагасан зэвхий саарал, эрээн, шарга зүстэй байна. Тэгвэл говь цөлийн бүсэд элсний өнгөтэй, биеэр бага шувуу олон бий.

- A. Italic, Underline, Bold – Align Center B. Underline, Italic, Bold – Align left
C. Bold, Underline, Italic – Align right D. Italic, Underline, Bold – Justify

19. MS Paint программын дараах хэрэгслүүд нь ямар үүрэгтэй вэ?

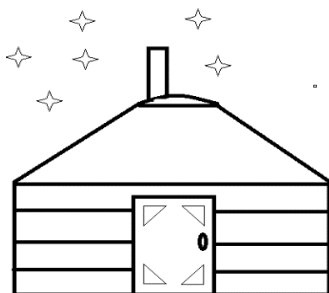


- a. Тэгш өнцөгт зурах
- b. Сонгон идэвхжүүлэх хэрэгсэл
- c. Өнгө сонгох хэрэгсэл
- d. Шугамын хүрээний хэлбэр солих

20. MS Paint программын Flip horizontal нь үүрэгтэй.

- A. Сонгосон зургийг босоо тэнхлэгийн хувьд тэгш хэмтэй эргүүлэх
- B. Сонгосон зургийг хэвтээ тэнхлэгийн хувьд тэгш хэмтэй эргүүлэх
- C. Сонгосон зургийг баруун тийш 90° эргүүлэх
- D. Сонгосон зургийг зүүн тийш 90° эргүүлэх

21. Зургийг зурахад ямар дүрсүүд ашигласан бэ?



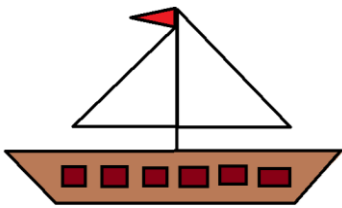
- A.
- B.
- C.
- D.

22. MS Paint программ дээр мод зурахдаа ашиглавал тохиромжтой.




- A. Rectangle
- B. Eraser
- C. Rotate
- D. Brush

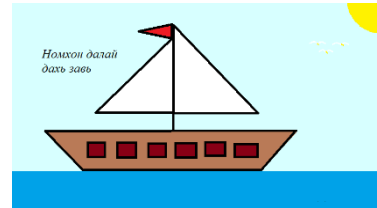
23. Зураг 1, 2-ыг нэгтгэн зохиомжилж, Зураг 3-ыг үүсгэх үйлдлүүдийг зөв дараалалд оруулан дугаарлаарай.



Зураг 1: Завь



Зураг 2: Далай



Зураг 3: Далай дахь завь

1. “Далай” зургийг нээн завины зургийг буулгана.
2. “Завь” зургийг нээн идэвхжүүлээд хуулж авна.
3. Завийг тохиромжтой хэлбэрт зөөж байршуулна.
4. Зашины дэвсгэрийг тэнгэрийн өнгөөр будна.
5. “Номхон далай дахь завь” бичвэрийг бичнэ.

- A. 2, 1, 3, 4, 5
- B. 2, 1, 3, 5, 4
- C. 2, 1, 4, 3, 5
- D. 5, 2, 1, 4, 3

24. Интернэт дэх веб сайтад хандах боломжийг олгодог программыг гэж нэрлэдэг.

- A. веб хөтөч
- B. веб хуудас
- C. интернэт
- D. www.google.com

25. Хайлтын үр дүнгээс зураг татан авахад ямар командыг сонгох вэ?

- A. Upload
- B. Paste
- C. Save as
- D. Copy