



БОЛОВСРОЛ,
ШИНЖЛЭХ УХААНЫ ЯАМ



БОЛОВСРОЛ, ШИНЖЛЭХ УХААНЫ ЯАМ
БОЛОВСРОЛЫН ҮНЭЛГЭЭНИЙ ТӨВ

ГҮЙЦЭТГЭЛИЙН ҮНЭЛГЭЭ-2023 БАГА БОЛОВСРОЛ

4

АНГИ

ДҮРСЛЭХ УРЛАГ, ТЕХНОЛОГИ

ХУВИЛБАР А

Аймаг / дүүрэг:

Сум / сургууль:

Анги / бүлэг:

Сурагчийн овог:

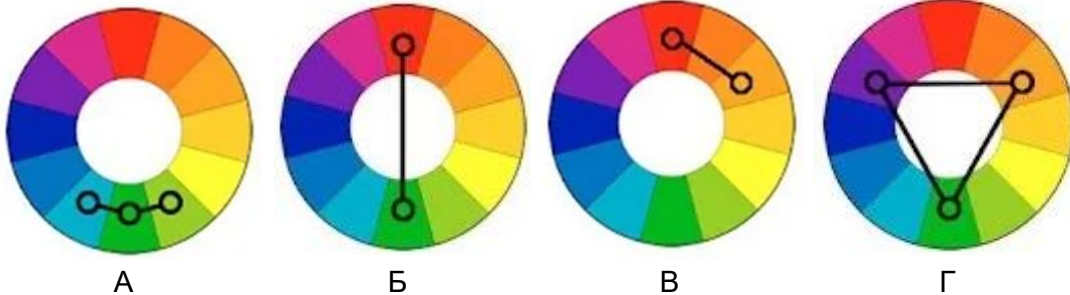
Сурагчийн нэр:

Сурагчийн код:

САНАМЖ

- Даалгаврыг 40 минутад гүйцэтгээрэй.
- Сурагчид балын болон өнгийн харандаа, шугам бэлтгэсэн байна.

1. Эсрэг өнгийг тэмдэглэсэн өнгийн хүрдийг сонгож дугуйлаарай.

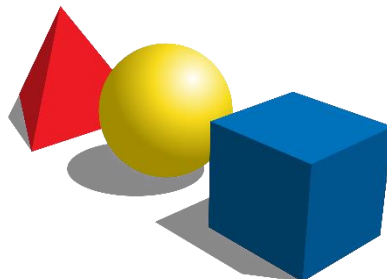


2. Зөгий цэцэгт хүрэх замыг хөгжмийн ямар аялгуугаар илэрхийлбэл илүү тохиромжтой вэ? Зөв хариуг сонгож дугуйлаарай.



- А. Намуухан аялгуу
- Б. Цоглог аялгуу
- В. Эрчтэй аялгуу
- Г. Хүчтэй аялгуу

3. Зурагт үзүүлсэн зүйлсийг юу гэж нэрлэдэг вэ? Зөв хариуг сонгож дугуйлаарай.




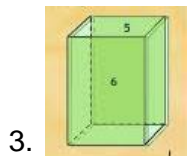
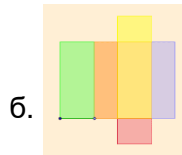
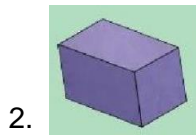
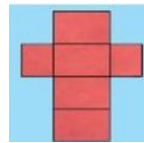
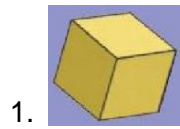
- А. Дүрс
- Б. Биет
- В. Хэлбэр
- Г. Хавтгай

4. Хар дэвсгэр дээр зурсан зургийг ямар зураг гэдэг вэ? Зөв хариуг сонгож дугуйлаарай.



- А. Мартан зураг
- Б. Хар зураг
- В. Өнгөт зураг
- Г. Нагтан зураг

5. Тэгш өнцөгт биетийн дэлгээсийг зөв харгалзуулсан хариуг сонгож дугуйлаарай.







А. 1-в, 2-а, 3-б

Б. 1-а, 2-в, 3-б

В. 1-б, 2-в, 3-а

Г. 1-в, 2-б, 3-а

6. Салхины хүч ашиглан хөдөлгөөн хийх техникийн загварыг сонгож дугуйлаарай.



7. Оёдлын багаж хэрэгслүүдээс аль нь хэмжих хэрэгсэл вэ? Зөв хариуг сонгож дугуйлаарай.



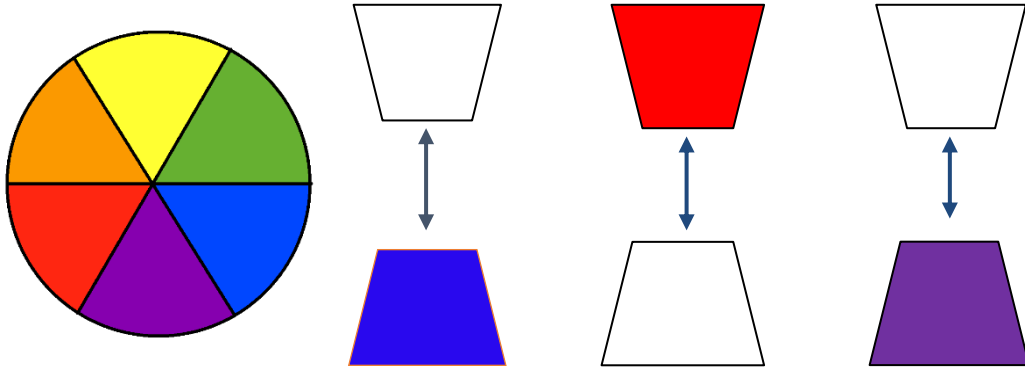
А

Б

В

Г



8. Өнгийн хүрдийг ажиглан, эсрэг өнгөөр харгалзах дүрсийг будаарай.



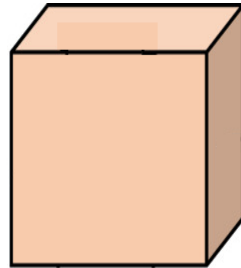
9. Өгөгдсөн дүрсийг биет болгон зураарай.




10. Зургаас санаа авч уул, үүлийг монгол зургийн чимэглэлийн аргаар зураарай.



11. Өгөгдсөн тэгш өнцөгт биетийг амьтан болгон загварчилж зураарай.



12. Салхины хүч ашиглан хөдлөх автомашины загварын шийдлийг гүйцээж зураарай.





Засалтын хүснэгт

Даалгаврын дугаар	Авсан оноо
I	
II	
III	
IV	
V	
VI	
VII	
VIII	
IX	
X	
XI	
XII	