



БОЛОВСРОЛ,  
ШИНЖЛЭХ УХААНЫ ЯАМ



БОЛОВСРОЛ, ШИНЖЛЭХ УХААНЫ ЯАМ  
БОЛОВСРОЛЫН ҮНЭЛГЭЭНИЙ ТӨВ

## ГҮЙЦЭТГЭЛИЙН ҮНЭЛГЭЭ-2023 БАГА БОЛОВСРОЛ



# ХӨГЖИМ

*ХУВИЛБАР А*

БАГАНАН КОД  
НААХ ХЭСЭГ

Аймаг / дүүрэг: .....

Сум / сургууль: .....

Анги / бүлэг: .....

Сурагчийн овог: .....

Сурагчийн нэр: .....

Сурагчийн код: .....



Засалтын хүснэгт

| Даалгаврын дугаар | Авсан оноо |
|-------------------|------------|
| I                 |            |
| II                |            |
| III               |            |
| IV                |            |
| V                 |            |
| VI                |            |
| VII               |            |
| VIII              |            |
| IX                |            |
| X                 |            |

### САНАМЖ

- Даалгаврыг 40 минутад гүйцэтгээрэй.
- Даалгавраа анхааралтай уншаад орхисон зай, дэвсгэр шугам, зурагт зөв хариултыг тэмдэглэнэ үү.
- (\*) тэмдэгтэй даалгавруудыг хөгжим болон дуу сонссоны дараа гүйцэтгээрэй.
- Даалгаварт өгсөн жишээг сайн хараад даалгаврыг гүйцэтгээрэй.

**\*Н.Жанцанноров “Сэтгэлд шингэсэн говь” зохиолыг сонсоод 1-3 дугаар даалгаврыг гүйцэтгээрэй.**

1. \*Эхний хэсгийн аялгуунд тохирох зураглалыг сонгоорой.



2. \*Зохиолын гол аялгууг ямар хөгжмийн зэмсгээр тоглож байна вэ? Тохирохыг сонгоно уу.



3. \*Аялгууны шинж төрхийг зурагтай холбон тайлбарлаарай. Ингэхдээ дараах түлхүүр үгийг ашиглаарай. (говь, тэнгэр, нутаг, сэтгэл)



.....

.....

.....

.....

.....


**Дууг сонсоод 4-6 дугаар даалгаврыг гүйцэтгээрэй.**

4. \*Сонссон дууныхаа утга санаанд тохирохыг сонгоно уу.

A. Найзуудын тухай дуу  
B. Сургуулийн тухай дуу

Б. Эх орны тухай дуу  
Г. Эхийн тухай дуу

5. \*Дээрх дууг ямар хэлбэрээр дуулж байна вэ?



Цөөхүүл

Найрал

Гоцлол

Хоршил

6. \*Дууны ноот бичлэгийг анхааралтай ажиглаад, тусгайлан тэмдэглэсэн хэсгүүдийг нэрлээрэй.

**Дунд зэрэг**

Ал-тан га - дас од Зу - лайдгя - лал-заж Зүг чи-гийг тод - руулж

7  
Ая-лахдэл-хийг уяраа - сан\_\_\_ Ми-ний эх о - рон\_\_\_ Мөнх тэн-гэ-рийн Мон

12  
гол\_\_\_ Мөнх тэнгэ-рийн Мон - гол\_\_\_ Ми-ний эх о - рон\_\_\_

7. Дараах хүснэгтийг ажиглаад, зураглалын дагуу аялгуу зохион дэвсгэр шугамд байрлуулна уу.

| До | Ре | Ми | Фа | Соль | Ля | Си |
|----|----|----|----|------|----|----|
| 1  | 2  | 3  | 4  | 5    | 6  | 7  |




8. Өгөгдсөн хэмнэлийг  $\frac{3}{4}$  айзам хэмжээнд багцлаарай.




9. Ля эгшгийг бишгүүр хөгжимд тэмдэглэсэн зөв хувилбарыг олоорой.


А.




Б.



В.



Г.



10. Өгөгдсөн эгшгүүдийг бишгүүрт хэрхэн хөгжимдөх вэ? Бишгүүрийн даралтыг будаарай.



E

G

A

D

