



БОЛОВСРОЛ,  
ШИНЖЛЭХ УХААНЫ ЯАМ



БОЛОВСРОЛ, ШИНЖЛЭХ УХААНЫ ЯАМ  
БОЛОВСРОЛЫН ҮНЭЛГЭЭНИЙ ТӨВ

## ГҮЙЦЭТГЭЛИЙН ҮНЭЛГЭЭ-2023 БАГА БОЛОВСРОЛ



# МАТЕМАТИК

БАГАНАН КОД  
НААХ ХЭСЭГ

Аймаг / дүүрэг: .....

Сум / сургууль: .....

Анги / бүлэг: .....

Сурагчийн овог: .....

Сурагчийн нэр: .....

Сурагчийн код: .....



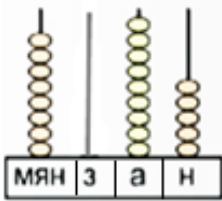
Засалтын хүснэгт

Даалгаврын дугаар		Авсан оноо
I		
II		
III		
IV		
V		
VI		
VII		
VIII	A	
	Б	
IX		
X	A	
	Б	
XI	A	
	Б	
	В	
XII		

### САНАМЖ

- Даалгавар тус бүрийн зааврыг сайн уншаарай.
- 40 минутад гүйцэтгээрэй.
- Өгсөн зайд цэвэр гаргацтай бичээрэй.

1 Зургийг ажиглаад, тохирох тоог бичээрэй.



2 Туузын будсан хэсгийг энгийн бутархайгаар илэрхийлж бичээрэй.



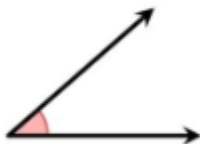
3 Хүүхдүүд саванд байсан усыг хэмжүүрт саванд хийж, багтаамжийг хэмжив.

Чи хэнтэй нь санал нийлэх вэ?  тэмдэглээрэй.

Савны багтаамж  
3 л 300 мл

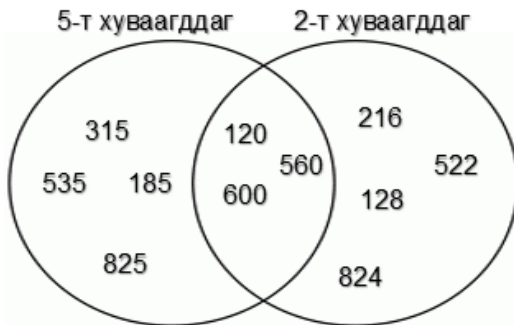
Савны багтаамж  
 л 300 мл

4 Өнцгийг нэрлэж бичээрэй.



.....

5 5 ба 2-т зэрэг хуваагддаг хэдэн тоо байна вэ?



.....

6 Хайрцагт 5 хар, 2 цагаан бөмбөг байв. Нэг бөмбөг авахад ямар өнгийн бөмбөг авах боломж нь их байх вэ? Сонгож дугуйлаарай.




А. цагаан > хар    Б. хар > цагаан    В. хар = цагаан

7 Зүй тогтлыг ажиглаад, үргэлжлүүлэн 2 тоог нөхөж бичээрэй.

1 цаг, 120 минут, 3 цаг, 160 минут, ... , ...

8 Мэдэгдэхгүй байгаа гишүүнийг олоорой.


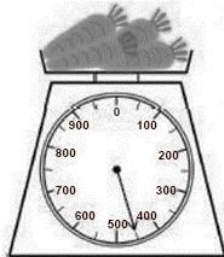
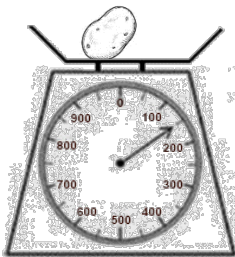
$$2500 \div X = 10$$



Шалгах



9 Төмсний жинг луувангийн жинтэй тэнцүүлэхийн тулд хэдэн грамм төмс нэмж авах вэ?



10



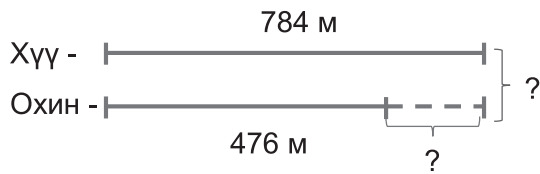
А. Дүрсийг баруун гар тийш 3 нэгж зайд шилжүүлэн зураарай.

Б. Шилжүүлсний дараах байршлыг бичээрэй.

.....

11


Зураглалыг ажиглаад, А, Б даалгавруудыг зааврын дагуу гүйцэтгээрэй




А. Зураглалд тохируулан нэг асуулт зохиож бичнэ үү.

.....  
.....

Б. Зураглалд тохирох бодолтыг хийнэ үү.



В. Бодолтоо шалгаарай.

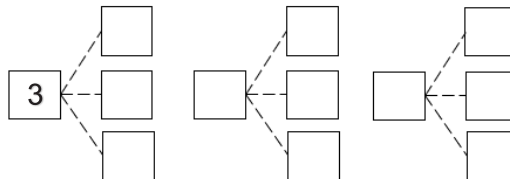


12

Охин өөрт байгаа цифрүүдээ ашиглан 2 оронтой тоо зохиов.



- Охины зохиосон хоёр оронтой тоонуудыг модны загварт бичээрэй.



- Нийт хэдэн хоёр оронтой тоо үүсэх вэ?

.....