



БОЛОВСРОЛ,
ШИНЖЛЭХ УХААНЫ ЯАМ



БОЛОВСРОЛ, ШИНЖЛЭХ УХААНЫ ЯАМ
БОЛОВСРОЛЫН ҮНЭЛГЭЭНИЙ ТӨВ

ГҮЙЦЭТГЭЛИЙН ҮНЭЛГЭЭ-2023 БАГА БОЛОВСРОЛ

3
АНГИ

ДҮРСЛЭХ УРЛАГ, ТЕХНОЛОГИ

ХУВИЛБАР А

Аймаг / дүүрэг:

Сум / сургууль:

Анги / бүлэг:

Сурагчийн овог:

Сурагчийн нэр:

Сурагчийн код:

САНАМЖ

- Даалгаврыг 40 минутад гүйцэтгээрэй.
- Сурагчид балын болон өнгийн харандаа, нугалаас үүсгэх ам дөрвөлжин цаас, цавуу бэлтгэсэн байна.

1. Дараах өнгүүдийн аль нь дулаан өнгө вэ? Зөв хариуг сонгож дугуйлаарай.



А



Б



В



Г

2. Зургийг сайн ажиглаад гол дүрийг сонгож дугуйлаарай.



А. Сэнгэцохио “Уургач” 1962он

3. Доорх зургуудаас аль нь хийсвэр зураг вэ? Зөв хариуг сонгож дугуйлаарай.



А



Б



В



Г

4. Зургийг ажиглаад, гурван өнгийн дагнаас үүсгэн будсан бүтээлийг олж дугуйлаарай.



А



Б



В

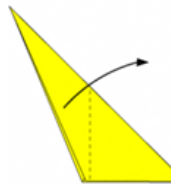


Г

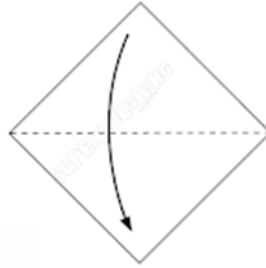
5. Ам дөрвөлжин цаасыг зааврын дагуу нугалахад аль дүрс үүсэх вэ? Зөв хариуг сонгож дугуйлаарай.



А



Б

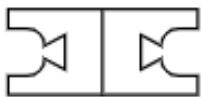
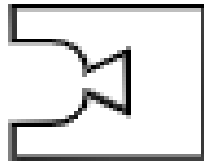


В

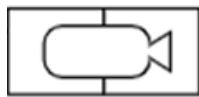


Г

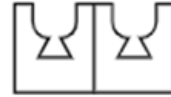
6. Цаасыг зурагт үзүүлснээр нугалж хайчлав. Дараа нь цаасаа дэлгэхэд аль дүрс үүсэх вэ? Зөв хариуг сонгож дугуйлаарай.



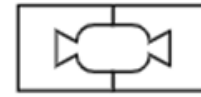
А



Б



В



Г

7. Баримлын шавраар хийсэн бүтээлүүдийг ажиглаад, үйл явдал илэрхийлсэн бүтээлийг сонгож дугуйлаарай.



А



Б

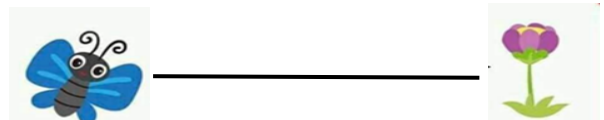





В



Г


8. Зөгий цэцэгт хүрэх замыг зураасаар илэрхийлжээ. Зураасны төрлүүдийг нэрлэж бичээрэй.

	A
	Б
	В
	Г



9. Дараах хурууны хээгээр үүссэн толбыг амьтан болгон гүйцээж зураарай.



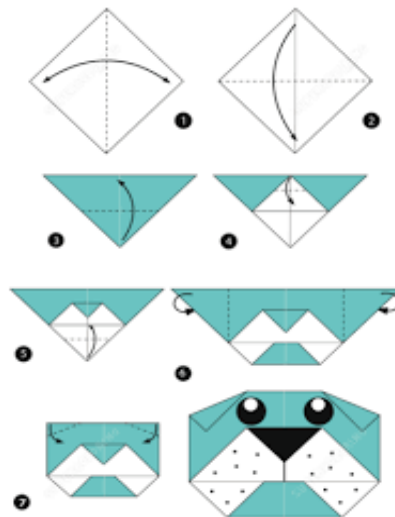
10. Дараах хээг өнгийн дагнаас үүсгэн гүйцээж будаарай.



11. Дараах дүрсүүдээр байшингийн загвар бүтээж зураарай.



12. Ам дөрвөлжин цаасыг зааврын дагуу нугалж, амьтан бүтээгээрэй.
Бүтээсэн амьтнаа тохирох хэсэгт наагаарай.



Бүтээл наах хэсэг



Засалтын хүснэгт

Даалгаврын дугаар	Авсан оноо
I	
II	
III	
IV	
V	
VI	
VII	
VIII	
IX	
X	
XI	
XII	