



БОЛОВСРОЛ,
ШИНЖЛЭХ УХААНЫ ЯАМ



БОЛОВСРОЛ, ШИНЖЛЭХ УХААНЫ ЯАМ
БОЛОВСРОЛЫН ҮНЭЛГЭЭНИЙ ТӨВ

ГҮЙЦЭТГЭЛИЙН ҮНЭЛГЭЭ-2023 БҮРЭН ДУНД БОЛОВСРОЛ

12
АНГИ

ДИЗАЙН ЗУРАГ ЗҮЙ, ТЕХНОЛОГИ

ЭМЭГТЭЙ

Аймаг / дүүрэг:

Сум / сургууль:

Анги / бүлэг:

Сурагчийн овог:

Сурагчийн нэр:

Сурагчийн код:

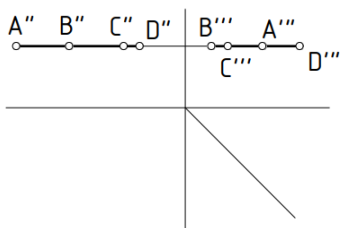
САНАМЖ

- Даалгаврыг 40 минутад хийж гүйцэтгээрэй.
- Зөв гэж үзсэн нэг хариуг сонгож, хариултын хуудсанд зааврын дагуу балын харандаагаар будаарай.

1. Гадаргуу гэсэн зөв ойлголтыг сонгоно уу.

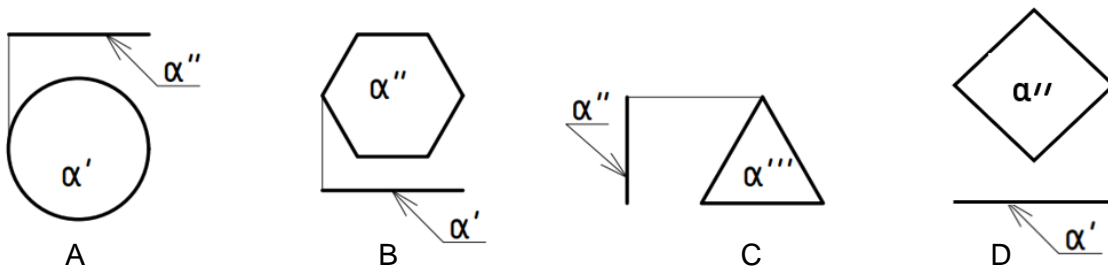
- A. Хөдөлгөөнгүй шугамын тасралтгүй олонлогийг гадаргуу гэнэ.
- B. Хөдөлгөөнт шугамын тасралтгүй дэс дараалсан олонлогийг гадаргуу гэнэ.
- C. Хөдөлгөөнт цэгийн дараалсан байрлалыг гадаргуу гэнэ.
- D. Хөдөлгөөнгүй шугамын дэс дараалалгүй олонлогийг гадаргуу гэнэ.

2. ABCD хавтгайн бодит дүрс гарах хувилбарыг сонгоно уу.

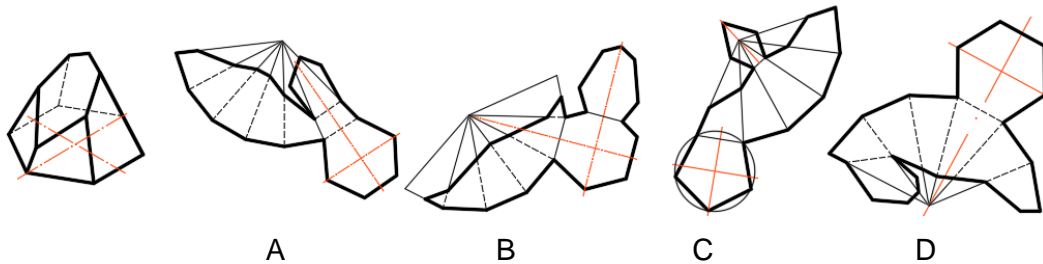


- A. Ромбо
- B. Трапец
- C. Тэгш өнцөгт
- D. Гурвалжин

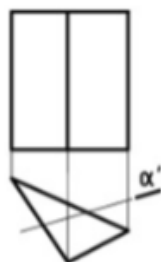
3. Хэвтээ түвшний хавтгайг сонгоно уу.



4. Огтлогдсон пирамидын дэлгээсний зөв зургийг сонгоно уу.



5. Призм ба хавтгайн огтлолд ямар дүрс үүсэх вэ?



- A. Гурвалжин
- B. Тэгш өнцөгт
- C. Квадрат
- D. Ромбо

6. Цэгийн оронд тохирох хариуг сонгоно уу.

Гэрэл зургийн зохиомж гэдэг нь илэрхийлэх арга юм.

- A. Зургийн талбайд багтах дурын объектын зургийг
- B. Нэгж зургийн талбайд багтаж байгаа биесийг оновчтой сонгож, зөв байрлуулах замаар нэгдмэл утга санааг
- C. Нэгж талбайд биесийг байрлуулан утга санаагаа
- D. Талбайд орших биетүүдийн зургийг

7. Фото зургуудыг ажиглан гэрэл зургийн ямар төрөлд хамаарах вэ? Зөв харгалзуулсан хариуг сонгоно уу.



- а. Түүхэн сэдэвт б. Байгалийн сэдэвт в. Амьтан ургамал г. Хүний хөрөг


A. 1-в, 2-а, 3-г, 4-б

B. 1-а, 2-г, 3-б, 4-в

C. 1-в, 2-г, 3-б, 4-а

D. 1-г, 2-а, 3-в, 4-а

8. Өгсөн зургууд зохиомжийн аль дүрэмд хамаарах вэ?




A. Гол болон туслах дүрийн байршлууд

B. Хөдөлгөөн өнгийн тоглолт

C. Гуравны нэг дүрэм алтан огтлол, алтан спираль

D. Орон зай алслалт

9. Дараах гэрэл зургууд нь зохиомжийн ямар аргаар авагдсан байна вэ? Зөв харгалзуулсан хариуг сонгоно уу.



а. Алтан огтлол

б. Алтан спираль

в. Тэнцвэртэй

г. Хөдөлгөөнтэй

A. 1-а, 2-г, 3-б, 4-в

B. 1-г, 2-а, 3-в, 4-б

C. 1-в, 2-г, 3-а, 4-б

D. 1-в, 2-б, 3-в, 4-г

10. Аль нь стоп моушн хүүхэлдэйн кино биш вэ?



11. Стоп моушн анимейшны төрлүүдийн тайлбарыг зөв харгалзуулсан хариуг сонгоно уу.

1. Элсэн анимейшн

2. Шавар анимейшн

3. Хүүхэлдэйн анимейшн

4. Хайчилбар анимейшн



A. 1-с, 2-d, 3-a, 4-b

B. 1-a, 2-b, 3-с, 4-d

C. 1-с, 2-d, 3-b, 4-a

D. 1-d, 2-a, 3-с, 4-b

12. Хувцасны стиль ба түүнд тохирох чимэглэлүүдийг зөв харгалзуулсан хариуг сонгоно уу.

1. Үндэсний стиль

а. Кант оёмол ба наамал бичиг

2. Спорт стиль

б. Хуниас, нугалаас, салбан, бантик

3. Романтик стиль

в. Эмжээр, хошмог, хоргой

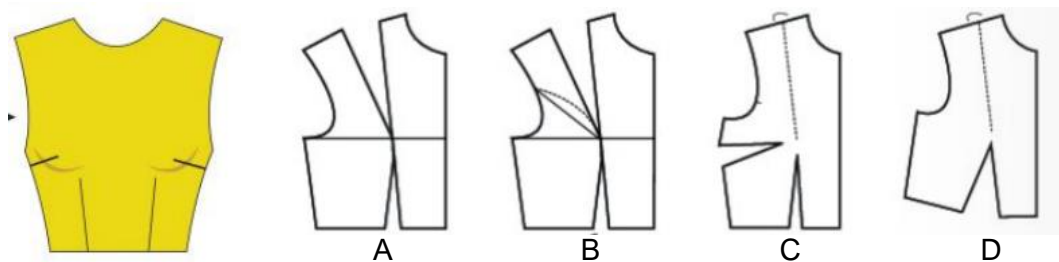
A. 1-а, 2-б, 3-в

B. 1-в, 2-а, 3-б

C. 1-б, 2-в, 3-а

D. 1-а, 2-в, 3-б

13. Зурагт харуулсан энгэрт харгалзах загварчилгааг сонгоно уу.



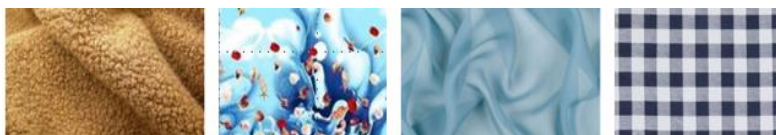
14. Зурагт өгөгдсөн гоёлын даашинзны загварыг ажиглаад ямар хэв маягт хамаарахыг зөв харгалзуулсан хариуг сонгоно уу.

1. Сонгодог 2. Үдэшлэгийн 3. Коктель 4. Чөлөөт



- A. 1-с, 2-б, 3-а, 4-д
 B. 1-б, 2-а, 3-д, 4-с
 C. 1-с, 2-д, 3-а, 4-б
 D. 1-б, 2-с, 3-а, 4-д

15. Зурагт харуулсан даашинзны загварт хамгийн тохиромжтой материалыг сонгоно уу.



- A. Үслэг B. Хээтэй C. Торон D. Дөрвөлжин хээтэй

16. Торгон материалын шинж чанарыг зөв сонгоно уу.

- A. Торгон даавуу нь нимгэн, гялалзсан гадаргуутай гоёмсог, төрөл бүрийн тор чимэглэлийн материалтай зохицох чадвар өндөртэй байдаг.
 B. Торгон даавуу нь вискозон ширхэглэгээр хийгдсэн, гялгар гадаргуутай, тор чимэглэлийн материалтай зохицох чадвартай байдаг.
 C. Торгон даавуу нь амьтны гаралтай ширхэглэгээр хийгдсэн, суналт багатай, эрүүл ахуйн шинж чанар сайтай байдаг.
 D. Торгон даавуу нь өнгө гадаргуугийн хувьд гялгар, чийгийг сайн шингээж агаар сайн нэвтрүүлдэг.

17. Зурагт харуулсан гоёлын дашинз хийхэд тохиромжтой нэхмэл материалын шинжүүдийг сонгоно уу.

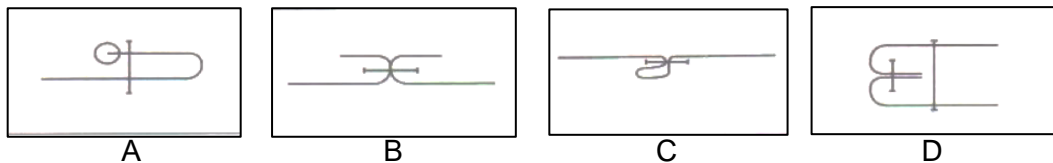


- A. Гялалзсан гадаргуутай, уналттай, үрчийлт багатай
- B. Гялалзсан гадаргуутай, жин ихтэй, үрчийлт ихтэй
- C. Гялалзсан гадаргуутай, жин багатай, зузаавтар
- D. Хээтэй гадаргуутай, жин багатай, нимгэн

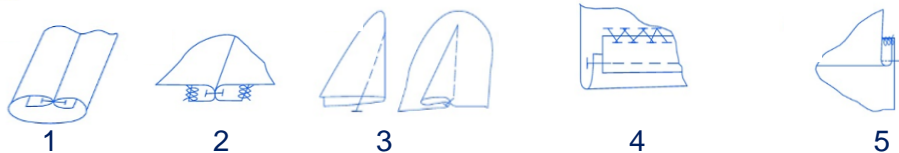
18. Хамба хилэн материал болон тод зурагтай даавуугаар эсгэх хамгийн тохиромжтой аргыг сонгоно уу.

- A. Ташуу эсгэх арга
- B. Үс болон зургийг нэг зүгт харуулж байрлуулж эсгэх арга
- C. Нэг талаас нь хөөн үндсэн утасны дагуу нугалан эсгэх арга
- D. Даавууг нугалахгүй дэлгэж тавьж эсгэх арга

19. Дашинзны хормой оёх оёдлын схемийг сонгоно уу.



20. Гоёлын дашинз оёход хэрэглэх оёдлын схем зургийн тайлбарыг зөв харгалзуулсан хариуг сонгоно уу.



- a. Танаасыг тэмдэглээсний дагуу оёд энгэрийн гол шугам руу унагаж индүүднэ.
- b. Дашинзны цээжийг хормойтой бэлхүүсний шугамаар залгаж оёд, оёдлын захыг хэрж, цээж рүү унагаж индүүднэ.
- c. Мөрөвчийг нэгтгэж оёд эргүүлэн хэвшүүлж индүүднэ.
- d. Зах ирмэгийг хэрж, нэгтгэж оёд, хагалж индүүднэ.
- e. Хормойн шулуунтай гоёлын туузыг нэгтгэж оёд, гоёлын туузыг их биетэй нөхөх оёдлоор оёно.

- A. 1-d, 2-c, 3-e, 4-b, 5-a
- C. 1-a, 2-c, 3-e, 4-b, 5-d

- B. 1-c, 2-d, 3-a, 4-e, 5-b
- D. 1-e, 2-a, 3-d, 4-c, 5-b

21. Даашинзны материалын нэршлийг зөв сонгоно уу.



- A. Торгон материал
- B. Торон материал
- C. Атлас материал
- D. Хамба хилэн материал

22. Нарийн ажиллагаа шаарддаг тодорхой нэр төрлийн цөөн хоол, олон төрлийн ундаагаар үйлчилдэг, хэрэглэгчдийг амарч хооллох нөхцөлийг бүрдүүлсэн хоолны газрыг сонгоно уу.

- A. Ресторан
- B. Кафе
- C. Цайны газар
- D. Буфет

23. Зориулалтын байранд үндэсний болон олон улсын хоолны жор, технологийн дагуу өргөн нэрийн хоол, ундаа, бүтээгдэхүүн үйлдвэрлэж, нарийн дэг журам, өндөр зохион байгуулалт, чанартай үйлчилгээг бүрдүүлсэн хоолны газрыг сонгоно уу.

- A. Ресторан
- B. Кафе
- C. Цайны газар
- D. Буфет

24. Зурагт үзүүлсэн бүтээл нь уламжлалт технологийн аль төрөлд хамаарах вэ?



- A. Сийлбэр
- B. Монгол зураг
- C. Арьсан урлал
- D. Зээгт наамал


25. Уламжлалт уран хатгамлын урлалыг олноор үйлдвэрлэх орчин үеийн технологийг сонгоно уу.



A



B



C



D