



БОЛОВСРОЛ,  
ШИНЖЛЭХ УХААНЫ ЯАМ



БОЛОВСРОЛ, ШИНЖЛЭХ УХААНЫ ЯАМ  
БОЛОВСРОЛЫН ҮНЭЛГЭЭНИЙ ТӨВ

## ГҮЙЦЭТГЭЛИЙН ҮНЭЛГЭЭ-2023 БАГА БОЛОВСРОЛ



# МАТЕМАТИК

БАГАНАН КОД  
НААХ ХЭСЭГ

Аймаг / дүүрэг: .....

Сум / сургууль: .....

Анги / бүлэг: .....

Сурагчийн овог: .....

Сурагчийн нэр: .....

Сурагчийн код: .....



Засалтын хүснэгт



| Даалгаврын дугаар |   | Авсан оноо |
|-------------------|---|------------|
| I                 |   |            |
| II                |   |            |
| III               |   |            |
| IV                |   |            |
| V                 |   |            |
| VI                |   |            |
| VII               |   |            |
| VIII              | A |            |
|                   | Б |            |
|                   | B |            |



1 Загварт тохирох тоог бичнэ үү.

| Аравт (а) | Нэгж (н) |
|-----------|----------|
|           |          |

2 Гурвалжин дүрсийг олж дугуйлаарай.



3 Зургийг ажиглаад, зөвийг  тэмдэглээрэй.



тарвас > алим

тарвас < алим

тарвас = алим

4 Цагийг зөв тохируулан холбоорой.




12:00

2:00



5 Алим хэд байгааг тоолж, тохирох нүдэнд зураасаар бүртгээрэй.



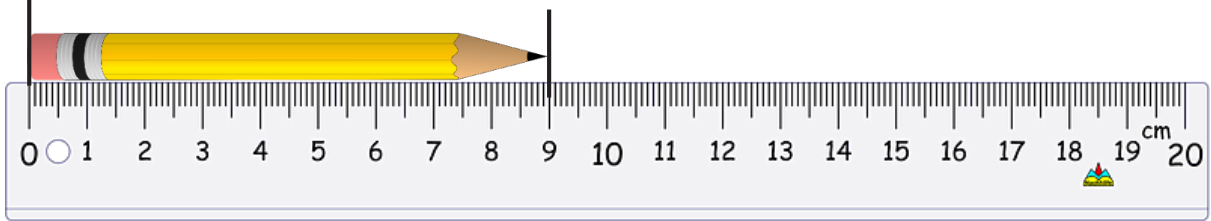
|  |  |
|--|--|
|  |  |
|  |  |
|  |  |
|  |  |



6 Орны нэмэгдэхүүний нийлбэрт задалж бодоорой.

$$\begin{array}{r} 68 \\ \hline \square \square \end{array} - \begin{array}{r} 47 \\ \hline \square \square \end{array} = \begin{array}{r} \square \square \end{array}$$

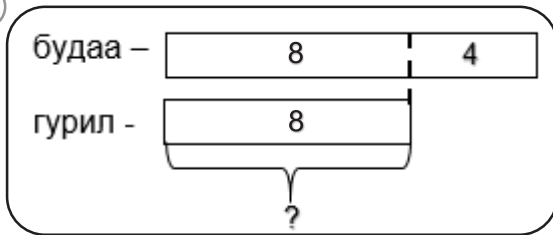
7 Харандааны уртын хэмжээг бичээрэй.



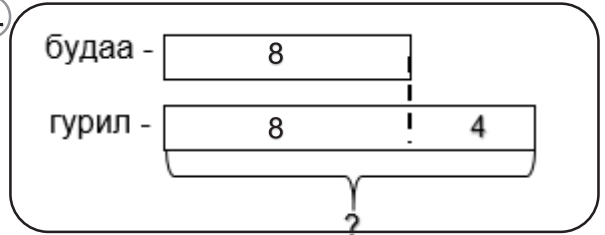

8 Дэлгүүрт 8 уут будаа, түүнээс 4-өөр олон уут гурил байв. Дэлгүүрт хэдэн уут гурил байгаа вэ?

Бодлогод тохирох зураглалыг сонгоорой.

1.



2.



Бодолт

|  |  |  |  |  |  |  |  |  |  |  |  |  |  |  |  |  |  |  |  |
|--|--|--|--|--|--|--|--|--|--|--|--|--|--|--|--|--|--|--|--|
|  |  |  |  |  |  |  |  |  |  |  |  |  |  |  |  |  |  |  |  |
|  |  |  |  |  |  |  |  |  |  |  |  |  |  |  |  |  |  |  |  |
|  |  |  |  |  |  |  |  |  |  |  |  |  |  |  |  |  |  |  |  |
|  |  |  |  |  |  |  |  |  |  |  |  |  |  |  |  |  |  |  |  |

Шалгах

|  |  |  |  |  |  |  |  |  |  |  |  |  |  |  |  |  |  |  |  |
|--|--|--|--|--|--|--|--|--|--|--|--|--|--|--|--|--|--|--|--|
|  |  |  |  |  |  |  |  |  |  |  |  |  |  |  |  |  |  |  |  |
|  |  |  |  |  |  |  |  |  |  |  |  |  |  |  |  |  |  |  |  |
|  |  |  |  |  |  |  |  |  |  |  |  |  |  |  |  |  |  |  |  |
|  |  |  |  |  |  |  |  |  |  |  |  |  |  |  |  |  |  |  |  |