

НЭГДҮГЭЭР ХЭСЭГ

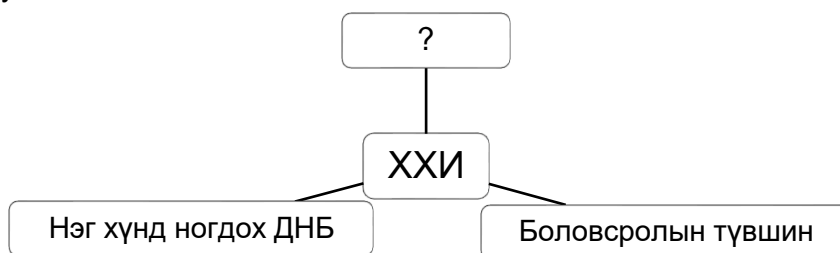
САНАМЖ:

- I. Асуулт даалгавар бүрийг анхааралтай, дуустал уншиж гүйцэтгээрэй.**
II. Сонгох даалгавраас зөвхөн нэг хариуг сонгоорой.

1. Дэлхийн хэлбэр хэмжээг багасган үзүүлсэн бодит загварыг сонгоно уу. /1 оноо/
 А. Глобус В. Газарзүйн зураг С. Гэрэл зураг
 D. Атлас E. Агаарын зураг

2. Наранд хамгийн ойр орших гараг аль нь вэ? /1 оноо/
 А. Бархасбадь В. Дэлхий С. Тэнгэрийн ван D. Ангараг E. Буд

3. Хүний хөгжлийн индекс (ХХИ)-ийн үзүүлэлтэд асуултын тэмдгийн оронд тохирох хариултыг сонгоно уу. /1 оноо/



- А. Тогтвортой хөгжил В. Хүн амын өсөлт С. Ажиллах хүч
 D. Дундаж наслалт E. Амьдралын түвшин

4. 2022 оны эхний хагаст МУ-ын хүн амын 20-30 насны 3000 орчим залуучууд Япон, БНСУ-руу өөрийн хүсэлтээр сурч боловсрох, ажиллах зорилгоор шилжин суурьшсан нь шилжих хөдөлгөөний ямар хэлбэр вэ? /1 оноо/

- А. Дотоод шилжих хөдөлгөөн В. Гадаад шилжих хөдөлгөөн
 С. Сайн дурын шилжих хөдөлгөөн D. Албадлагын шилжих хөдөлгөөн
 E. Түр зуурын шилжих хөдөлгөөн

5. Хотжилтын түвшин хамгийн өндөр улс аль нь вэ? /1 оноо/
 А. Аргентин В. Бельги С. Энэтхэг D. Франц E. Индонез

6. Аж үйлдвэрийг байршуулахад нөлөөлөх нийгмийн хүчин зүйлийг сонгоно уу. /1 оноо/
 А. Эрчим хүч В. Түүхий эд С. Байршил D. Ажиллах хүч E. Гол мөрөн

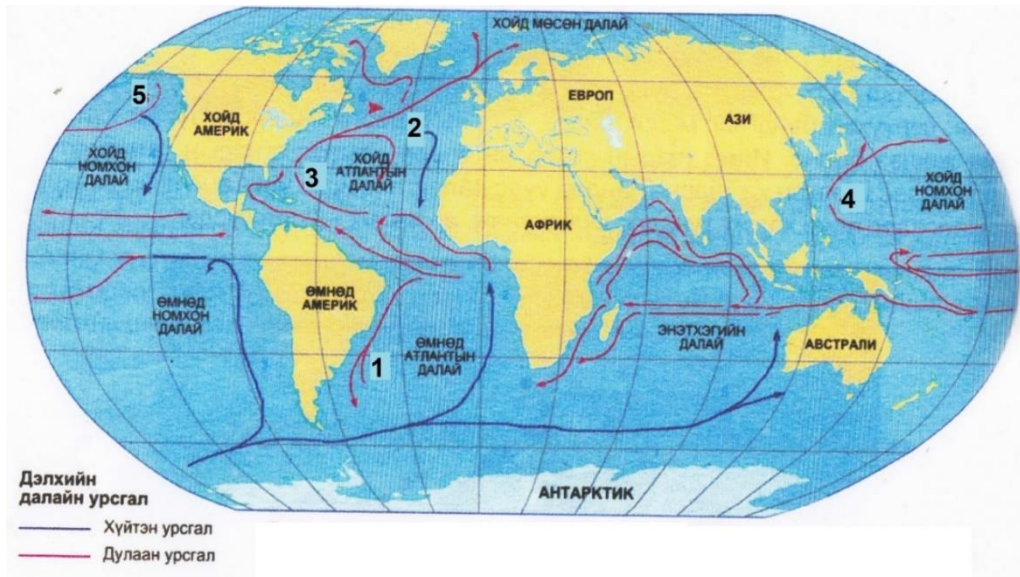
7. Бөхөн байгалийн аль бүсэд амьдардаг вэ? /1 оноо/
 А. Хүйтэн бүс В. Субтропикийн бүс С. Экваторын бүс
 D. Тропикийн бүс E. Сэрүүн бүс

8. Тунамал чулуулаг аль нь вэ? /1 оноо/
 А. Шохойн чулуу В. Галт уулын шил С. Гантиг D. Боржин E. Гнейс

9. Агаарын ижил даралттай цэгүүдийг холбосон шугамыггэнэ. /1 оноо/
 А. Изобар В. Изокол С. Изотерм D. Изогипс E. Изобат

10. Далайн урсгалын зурагт 5-ын тоогоор тэмдэглэсэн урсгалыг нэрлэнэ үү.

/1 оноо/



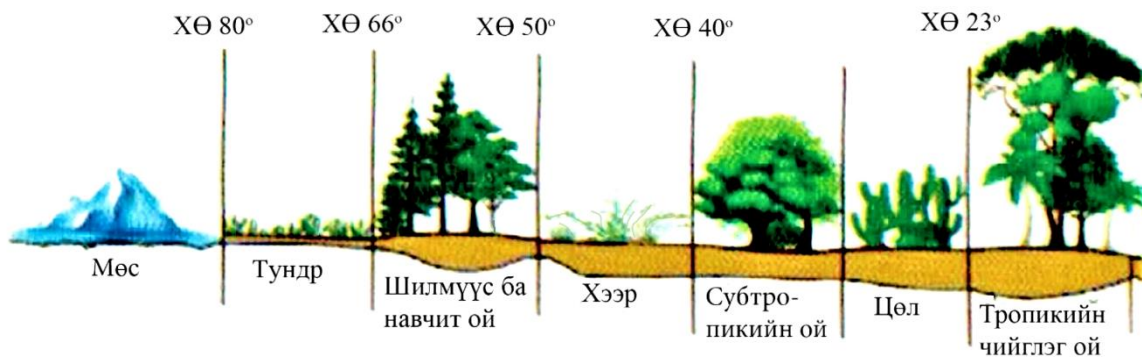
- A. Курсиогийн урсгал
- D. Саргассын урсгал

- B. Гольфстримын урсгал
- E. Бразилийн урсгал

- C. Аляскийн урсгал

11. Биомасс хаана хамгийн бага байна вэ?

/1 оноо/



- A. Субтропикийн ой

- B. Мөс

- C. Хээр

- D. Тундр

- E. Цөл

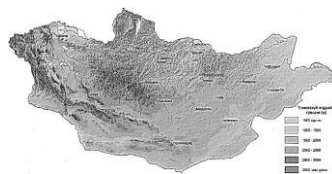
12. Газарзүйн зургийн хамрах нутгаар нь ангилдаг. Орон нутгийн зургийг сонгоно уу.

/1 оноо/

A.



B.



C.



D.




E.



13. Зургийг ажиглан зөв тодорхойлсон хариултыг сонгоно уу.

/1 оноо/



A. Растер зураг
D. Сансрын зураг

B. Аялалын зураг
E. Агаарын зураг

C. Вектор зураг

14. Нарны аймгийн алслагдсан дарааллаар 6 дугаарт байрлах, тэнхлэгээ эргэх хугацаа нь 10 цаг 25 минут бөгөөд 29.5 жилд нарыг 1 бүтэн тойрдог, сансрын биетүүд, тоосонцорын бүслүүртэй гарагийг олно уу.

/1 оноо/

A. Санчир

B. Дэлхий

C. Ангараг

D. Сугар

E. Бархасбадь

15. Хурдтай хөгжиж буй олон нийтийн мэдээллийн хэрэгсэл, ТВ, интернет, харилцаа холбооны болон орчин үеийн тээврийн хэрэгсэл, хөгжлийн хувьд нэгдэж буй үйл явцыг илэрхийлсэн даяаршлын хүрээг тодорхойлно уу.

/1 оноо/

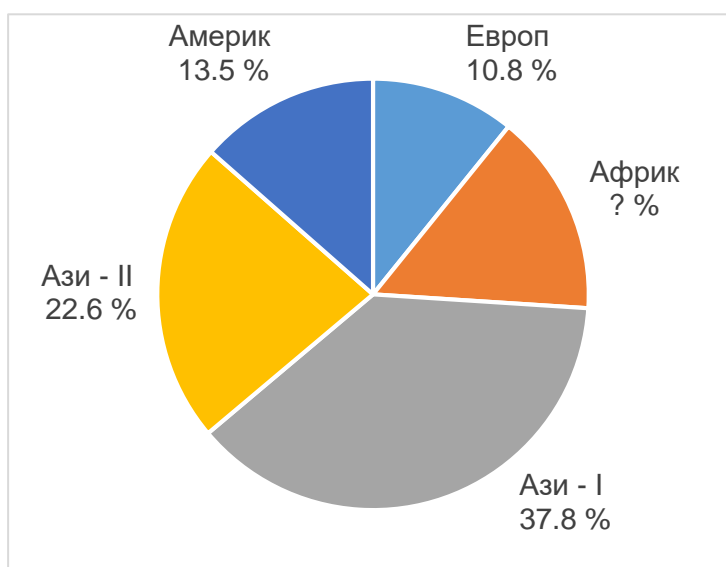
A. Ардчилалын даяаршил
D. Соёлын даяаршил

B. Улс төрийн даяаршил
E. Эдийн засгийн даяаршил

C. Нийгмийн даяаршил

16. Тоон үзүүлэлтийг ашиглан орхигдсон бүс нутгийн хүн амын эзлэх хувийг тооцоолно уу.

/2 оноо/



A. 17.2%

B. 16.2%

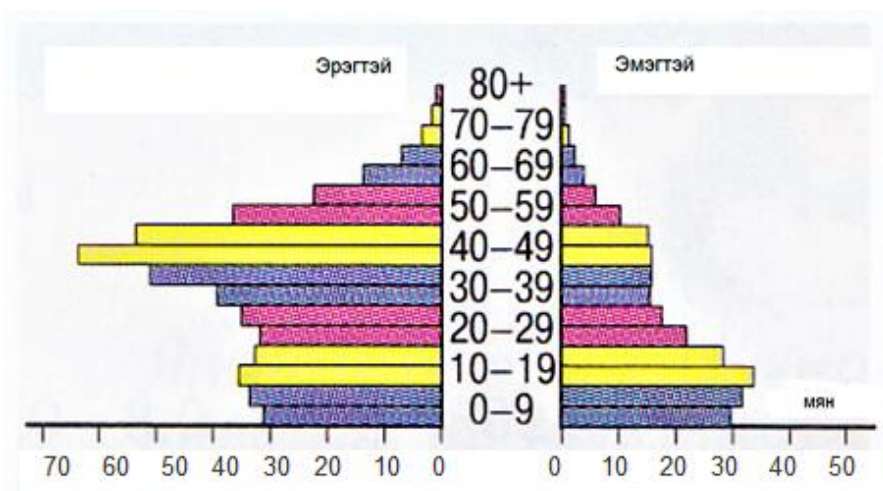
C. 14.2%

D. 15.2%

E. 18.2%

17. 2017 оны Катар улсын хүн амын суваргыг ашиглан зөв тайлбарласан хариуг олоорой.

/1 оноо/



- A. 60-с дээш насны эрэгтэйчүүдийн тоо цөөн
- B. 10-29 насны эмэгтэйчүүд эрэгтэйчүүдийн тоо ойролцоо
- C. 40-49 насны эмэгтэйчүүдээс эрэгтэйчүүдийн тоо олон
- D. 50-59 насны эмэгтэйчүүдийн тоо эрэгтэйчүүдээс олон
- E. 0-9 насны эрэгтэй хүүхдийн тоо эмэгтэйгээсээ цөөн

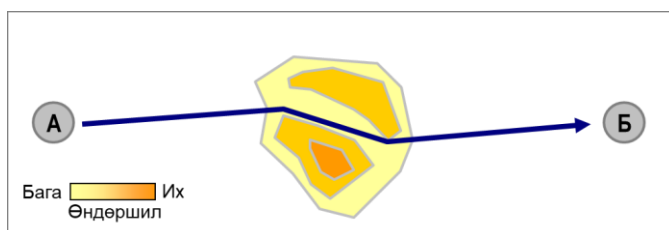
18. Органик фермийн тариалангийн талбайн хэмжээгээр тэргүүлэгч Европ тивийн орнуудыг сонгоно уу.

/1 оноо/

- A. Норвеги, Иордан
- B. Итали, Швед
- C. Герман, Гүрж
- D. Испани, Итали
- E. Испани, Латви

19. Хуурай газарт тээврийн сүлжээг өргөжүүлэхэд тулгардаг саадуудын нэг нь холбосон авто зам барих нь.....хүчин зүйл юм.

/1 оноо/



- A. Уул ба хөндийг, харьцангуй
- B. Нуур ба гол мөрөнг, харьцангуй
- C. Уул ба хөндийг, үнэмлэхүй
- D. Тэнгис ба буланг, үнэмлэхүй
- E. Шавар ба намгийг, харьцангуй

20. Газарзүйн бүрхэвчийн мөчлөг ба хэмнэлт шинж чанарын онцлогийг тодорхойлсон хариултыг олно уу.

/2 оноо/

- A. Тектоникийн хөдөлгөөн эрчимжих
- B. Галт уулын дэлбэрэлтээс тоос нэмэгдэх
- C. Өдөр, шөнө ээлжлэх, улирал солигдох
- D. Хөрс, ургамал, амьтан тархах
- E. Агаарт чийг өтгөрч үүл бүрэлдэх

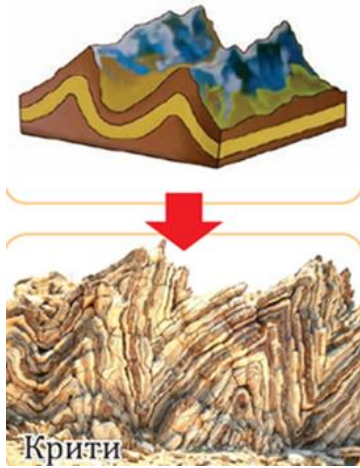
21. Голдуу үйлдвэр ихтэй том хотын дээр үүсдэг, агаарт нүүрсхүчлийн хий болон хатуу хольцууд ихэссэнээс болж газрын гадаргаас ялгарах дулааныг тогтоон барьж буй үзэгдэл инверсийн ямар төрөл вэ?

/1 оноо/

- A. Адвекцийн инверс
- B. Агаарын бохирдлын инверс
- C. Цацрагийн инверс
- D. Уулзүйн инверс
- E. Хаврын инверс

22. Кипр арал дээр орших Крити нь уулын ямар төрөлд хамаарагдах вэ?

/1 оноо/



- A. Галт уул
- B. Атираат уул
- C. Хөмбөн уул
- D. Зөрөгт уул
- E. Өндөр уул

23. Гадаргын хэлбэрт нөлөөлөх гол хүчин зүйлийг тодорхойлно уу.

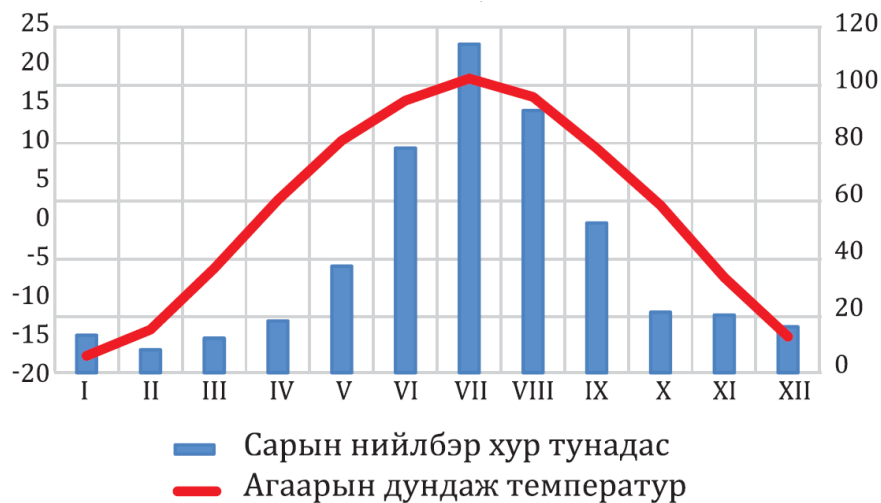
/1 оноо/



- A. Газар хөдлөлтийн нөлөө
- B. Мөсөн голын нөлөө
- C. Нарны энергийн нөлөө
- D. Усны нөлөө
- E. Салхины нөлөө

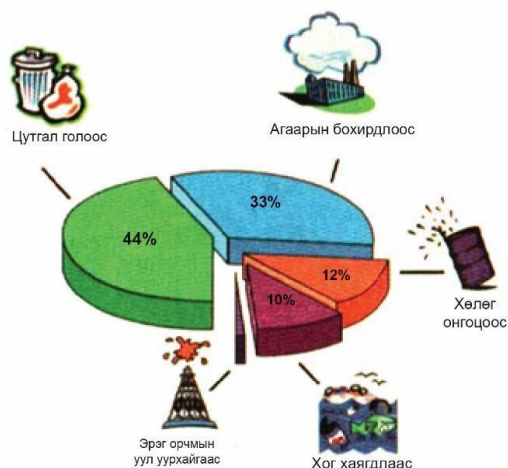
24. ОХУ-ын Иркутск хотод хэддүгээр саруудад хамгийн бага тунадас унадаг вэ?

/2 оноо/




- A. XI-XII сард
- B. III- IV сард
- C. IV-V сард
- D. X-XI сард
- E. II-III сард

25. Тойргон диаграммаар далайн усны бохирдлын хувийг харуулав. Хамгийн их бохирдуулж байгаа эх үүсвэрийг сонгоно уу. /1 оноо/






- A. Цутгал гол
- B. Агаарын бохирдол
- C. Хөлөг онгоц
- D. Хог хаягдал
- E. Эрэг орчмын уул уурхай

26. Гималайн нуруунд д.т.д 4572 м өндөрт биомассын тархалтад тохирох экосистем аль нь вэ? /1 оноо/



- A. Өвстэй тал
- B. Хуурай хээр
- C. Нуга намаг
- D. Тундр ба таг
- E. Жинхэнэ цөл

27. Ургамал ургахад шаардагдах органик бодисын хэмжээг хөрсний үржил шим гэнэ. Хамгийн үржил шимт хөрсийг сонгоно уу. /1 оноо/



28. Сурагч Мөнхөө найзын хамт модон гүүрээр гарч зүүн хойд зүгт аялав. Аялалын төгсгөлд ямар объект таарах вэ? /2 оноо/



- A. Усан цахилгаан станц
B. Гуу жалга
C. Жимсний цэцэрлэг
D. Сайжруулсан шороон зам
E. Бут ба ой

29. "Google Map"-ын газарзүйн зургийг ашиглан Эрдмийн өргөө цогцолбор сургуулиас зүүн хойд зүгт байрлах объектыг нэрлэнэ үү. /2 оноо/



- A. Прогресс зочид буудал
B. Голомт банк
C. 114-р сургууль
D. 56-р сургууль
E. Хөл бөмбөгийн талбай

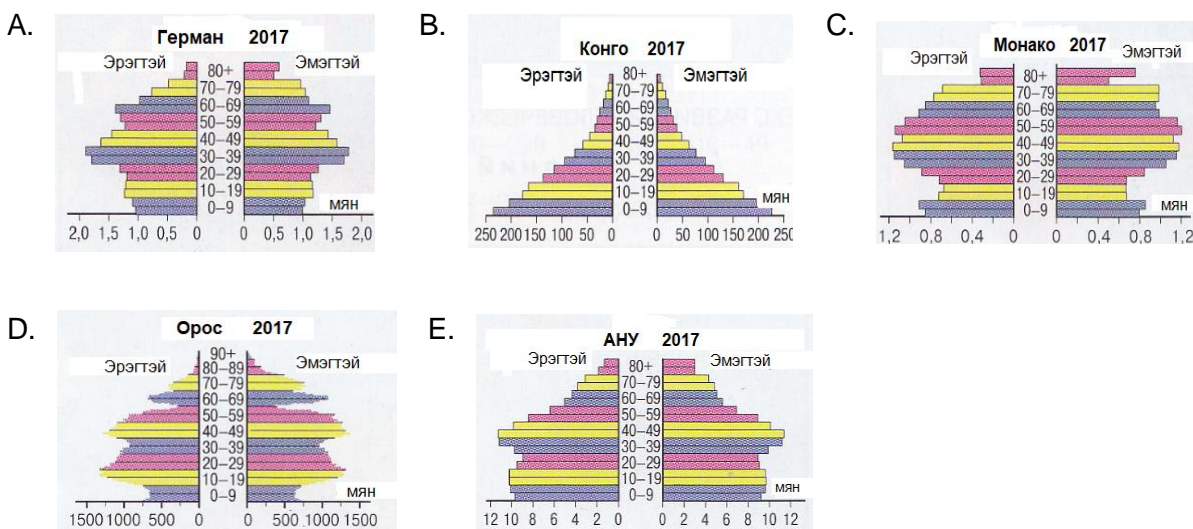
30. Улаанбаатар хотод өдрийн 12 цаг болж байв. Энэ үед Дубай хотод (III цагийн бүс) хэдэн цаг болж байх вэ? /2 оноо/

- A. 08 цаг
B. 07 цаг
C. 09 цаг
D. 10 цаг
E. 12 цаг

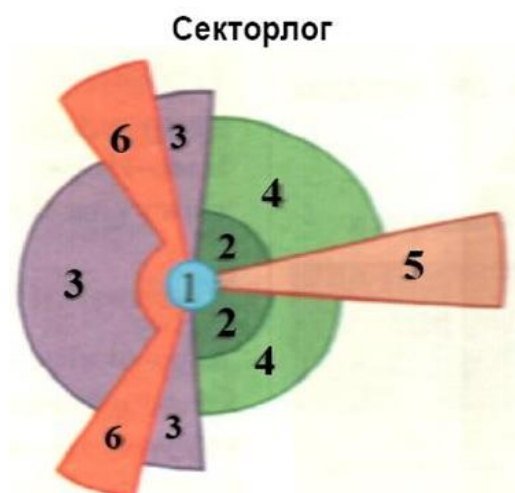
31. Өндөр технологийн ололтыг үйлдвэрлэлд нэвтрүүлж байгаа үйл явцыг тодорхойлно уу. /2 оноо/

- A. Гэрийн мод, тавилга хийх
B. Арьс, шир элдэж сур бэлтгэх
C. Нано бүрхүүлт гэрийн бүрээс үйлдвэрлэх
D. Сүүг уламжлалт аргаар боловсруулах
E. Алтыг гар аргаар олборлох

32. Хүн амын ихэнх хувийг 0-30 насны хүн ам эзэлдэг, ирээдүйд хүн ам нь өсөх чиг хандлагатай, хүйсийн тэнцвэрт байдлаа хадгалсан улсыг сонгоно уу. /2 оноо/



33. Иргэн Дорж хөдөөнөөс хот руу ирж сууршихдаа хамаатныхаа хашаанд амьдрахаар төлөвлөжээ. Энэ нь хот төлөвлөлтийн “Бага орлоготой иргэдийн хороолол”-д хамаарах тул секторлог загварын аль тоон утгад тохирох вэ? /2 оноо/



- A. 1
- B. 5
- C. 2
- D. 3
- E. 6

34. Өгөгдлийг уншаад эрчим хүчний гол эх үүсвэр нь байгалийн ямар нөхцлөөс шалтгаалсан болохыг тодорхойлно уу. /2 оноо/

Тайширын усан цахилгаан станц нь жилдээ 35 кВт/ц эрчим хүчийг үйлдвэрлэх чадалтай. Говь-Алтай болон Завхан аймгуудын зарим сумдыг эрчим хүчээр хангадаг. Тогтмол эрчим хүчийг авдаг, агаарын бохирдол үүсгэхгүй, байгалийн эх үүсвэр юм.

- A. Урсац нь тогтвортой жилийн туршид урсдаг гол
- B. Хөндий хотгорын төвийн чийг намагтай гадарга
- C. Салхины хурд тогтвортой талархаг гадарга
- D. Нарны тусгал болон ууршилт ихтэй эзвэр гадарга
- E. Түр зуурын урсгалтай, үе үе огцом үерлэдэг гол

35. Тээврийн төрлүүдийг давуу талуудтай нь харгалзуулна уу. /2 оноо/

№	Тээврийн төрлүүд		Давуу тал
1	Агаарын тээвэр	а	Их ачааг нэг дор тээвэрлэнэ, хямд өртөгтэй
2	Усан замын тээвэр	б	Цаг агаарын нөхцлөөс хамаарахгүй, хямд өртөгтэй
3	Авто замын тээвэр	в	Холын зайд хурдан, тав тухтай
4	Төмөр замын тээвэр	г	Богино зайд илүү дөт, хэрэглэгчдэд шууд хүрдэг

A. 1г,2б,3а,4в B. 1а,2г,3в,4б C. 1в,2а,3г,4б D. 1в,2б,3г,4а E. 1б,2а,3в,4г

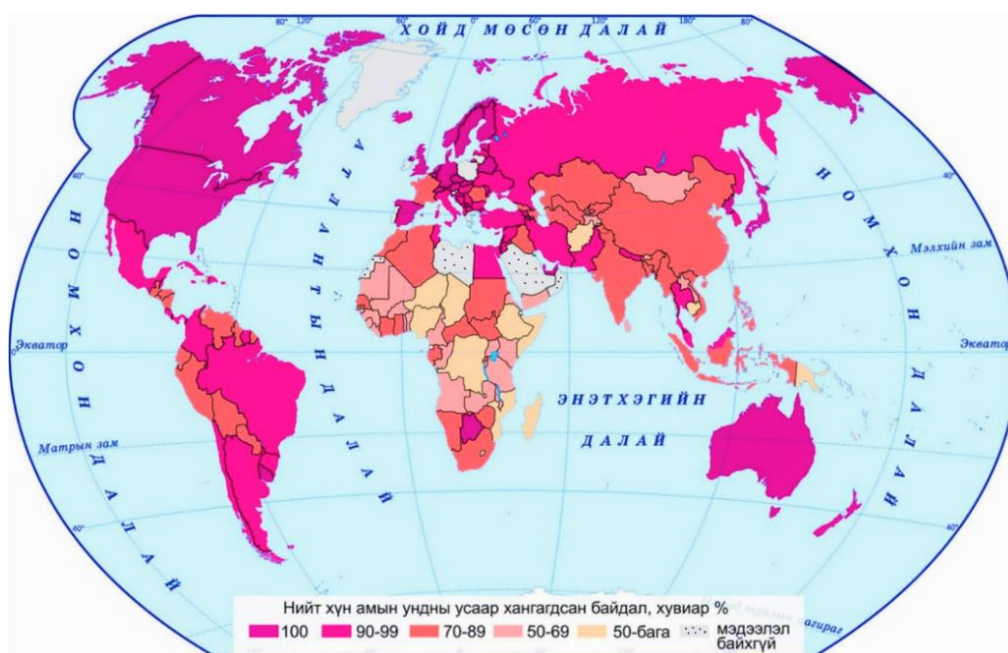
36. Хэрэв чи Канад улсын Оттава хотод суралцахаар явж байгаа гэж төсөөлье. Тэнд газарзүйн бүсийн ямар орчинтой байх вэ? /2 оноо/

- A. Халуун хуурай, агаарын их даралтын мужид оршдог. Пассат салхи зонхилдог. Өвөл $+10^{\circ}\text{C}$ -ээс буурахгүй, зундаа дунджаар $+30^{\circ}\text{C}$ - $+35^{\circ}\text{C}$. Саванн, цөл, халуун орны ойтой.
- B. Баруун зүгийн салхины нөлөөнд оршино. Далайн эргээр чийглэг, эх газрын төв хэсгээр хуурай, тайга, хээр, цөл, холимог ойтой. 1-р сард -10°C орчим, 7-р сард $+25^{\circ}\text{C}$, дунджаар 180-200 мм орчим тунадас унадаг.
- C. Дулаан ба чийгийн хувьд улирлын ялгаа байхгүй. Чийглэг, мөнх ногоон ойтой, жилийн туршид $+25^{\circ}\text{C}$ - $+30^{\circ}\text{C}$, дунджаар 2000 мм түүнээс их тунадас унадаг.
- D. 7-р сард $+10^{\circ}\text{C}$ хүрэхгүй, өвөлдөө -40°C , дунджаар 50-100 мм орчим тунадас унадаг. Дулаан дутагдалтай учир ууршилт бага, цэвдэг, намаг элбэг тархсан.
- E. Хамгийн дулаан сардаа $+5^{\circ}\text{C}$ орчим түүнээс бага температуртай. Дээд ургамалгүй, хаг, хөвд ургана, үргэлжилсэн цэвдэгтэй, дунджаар 5-30 мм орчим тунадас унадаг.

37. Монгол Улс Парисын хэлэлцээрийг УИХ-аар хэлэлцэн 2016 онд соёрхон баталсан. Хүлэмжийн хийн ялгаруулалтаа бууруулахад хувь нэмрээ оруулах зорилгоор хийж буй үндсэн үйл ажиллагааг сонгоно уу. /2 оноо/

- A. Бэлчээрийн даацыг нэмэгдүүлэх B. Ойн санг багасгах
C. Гадаргын усыг бохирдуулах D. Нүүрсхүчлийн хийг ихэсгэх
E. Ногоон байгууламжийг нэмэгдүүлэх

38. Хүн ам нь ундны усны хомсдолд орсон Ази тивийн улсуудыг олно уу. /2 оноо/



- A. Афганистан, Камбож, Лаос
 C. Лаос, Перу, Индонез
 E. Ирак, Румын, Пакистан
- B. Саудын Араб, Этиоп, Энэтхэг
 D. Камбож, Филиппин, Мавритан


39. Өмнөд Америкийн хавтан, Африкийн хавтангаас 1 жилд 4 см-ээр холдон салдаг бол 1 сая жилийн дараа хэдэн км-ийн зайтай холдохыг тооцоолно уу. /2 оноо/

- A. 4000 км B. 4 км C. 400 км D. 40 км E. 0.4 км

40. Монгол оронд ирсэн АНУ-ын иргэнд өнөөдөр агаарын температур $+30^{\circ}\text{C}$ гэдгийг фаренгейтийн хуваариар хэд гэж ойлгуулах вэ? ($t^{\circ}\text{F}=9/5t^{\circ}\text{C}+32$) /2 оноо/

- A. 62°F B. 49°F C. 32°F D. 34°F E. 86°F

41. Хуурай газар ба усны харилцан адилгүй халж, хөрдөг зүй тогтлоос болж өдөр, шөнөөр чиглэлээ өөрчилдөг орон нутгийн салхины өдрийн чиглэлийг тодорхойлно уу. /2 оноо/



- A. Нуураас эрэг рүү чиглэнэ
 C. Далайгаас эх газар луу чиглэнэ
 E. Мэлхийн замаас экватор луу чиглэнэ
- B. Эргээс нуур луу чиглэнэ
 D. Эх газраас далай руу чиглэнэ

42. Туул гол Хэнтий нурууны өвөр (д.т.д 1850 м)-өөс эх авч 819 км урсаад Орхон гол (д.т.д 780 м)-д цутгадаг бол голын уналыг тооцоолно уу. ($H=N_1-N_2$) /2 оноо/

- A. 2630 м B. 1031 м C. 1070 м D. 1599 м E. 2669 м

43. Хээрийн бүсэд хүнсний ногоо тариалахад хамгийн тохиромжтой хөрсийг сонгоно уу. /2 оноо/

- A. Цайвар саарал, Карбонат, шохой, давс их, 0.2-0.5% ялзмагт хөрс
 B. Хүрэн, Кальци, магниар баялаг, 5-7% ялзмагт хөрс
 C. Улаан хүрэн, Төмөр, хөнгөн цагааны исэл их, 3-5% ялзмагт хөрс
 D. Цайвар бор, Сульфат, натриар баялаг, 2-3% ялзмагт хөрс
 E. Саарал, Цахиур, шүлтийн агууламж их, 1.5-2% ялзмагт хөрс

44. гараг нарнаас 778 сая км зайд алслагдсан байдаг. Энэ зайг одон орны нэгжээр илэрхийлнэ үү. /2 оноо/

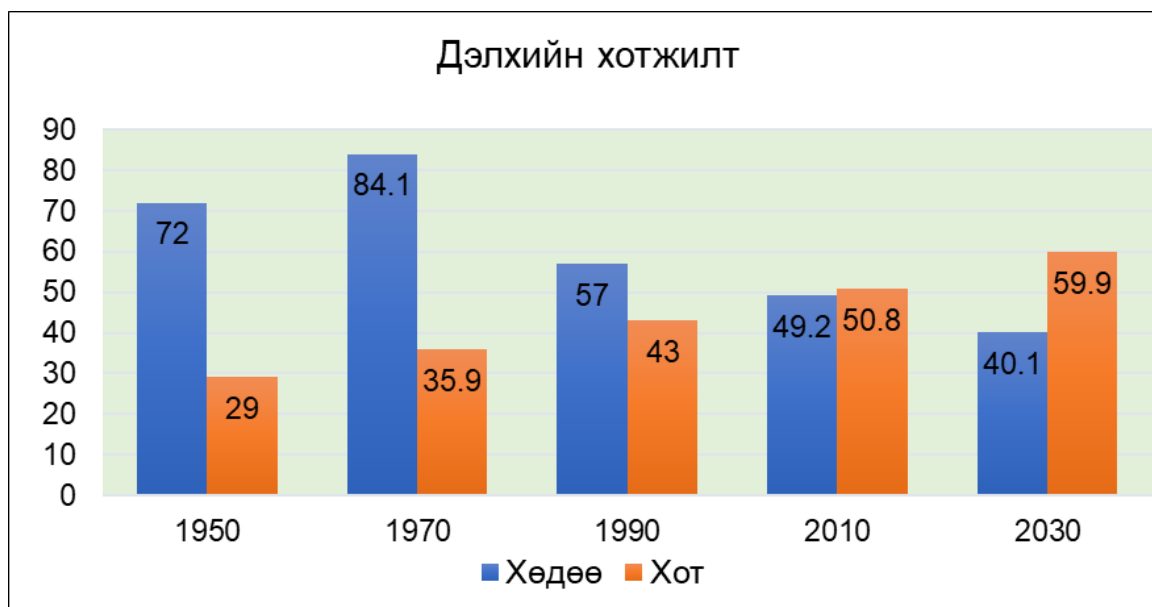
- A. Бархасбадь, 0.19 о.о.н B. Ангараг, 51.8 о.о.н C. Дэлхий, 1.00 о.о.н
 D. Бархасбадь, 5.19 о.о.н E. Ангараг, 5.19 о.о.н

45. Дунд зэргийн хөгжилтэй орнуудын хүн ам, бараа бүтээгдэхүүн, худалдааны хувь хэмжээг тодорхойлно уу. /2 оноо/

№	Үзүүлэлт	Хөгжингүй	Дунд зэргийн хөгжилтэй	Хөгжиж буй
1	Хүн ам	15%	?	80%
2	Бараа бүтээгдэхүүн	47%	?	21.4%
3	Худалдаа	51%	?	30%

- A. Хүн ам 5%, Бараа бүтээгдэхүүн 31.6%, Худалдаа 19%
 B. Хүн ам 5%, Бараа бүтээгдэхүүн 25.6%, Худалдаа 21%
 C. Хүн ам 65%, Бараа бүтээгдэхүүн 31.6%, Худалдаа 19%
 D. Хүн ам 95%, Бараа бүтээгдэхүүн 68.4%, Худалдаа 81%
 E. Хүн ам 5%, Бараа бүтээгдэхүүн 68.4%, Худалдаа 19%

46. Графикийг ашиглан сүүлийн 20 жилд хотжилт хэдэн хувиар өсөх хандлагатай байгааг тооцоолно уу. /2 оноо/



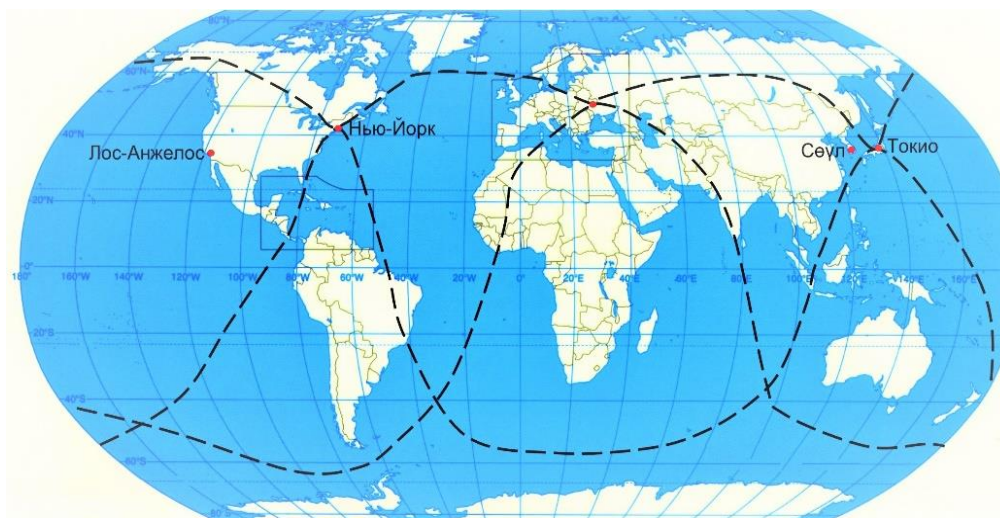
- A. 9.1% B. 50.8% C. 11.8% D. 89.3% E. 59.9%

47. Дэлхийн уур амьсгалын зарим бүсүүдийн онцлогоос хамаарсан эрхлэх аж ахуйг харгалзуулна уу. /2 оноо/

№	Уур амьсгалын бүсүүд		Бүсүүдийн онцлог		Эрхлэх аж ахуй
1	Экваторын	А	Өвөл бага зэрэг хүйтэн, зун нь чийглэг халуун	а	Алим
2	Газар дундын тэнгисийн	Б	Өвөл хүйтэн, хавар, намар сэрүүн	б	Кофе
3	Эх газрын	В	Жилийн туршид халуун, чийглэг	в	Усан үзэм

- A. 1Бв, 2Вб, 3Ба B. 1Аб, 2Бв, 3Ва C. 1Бв, 2Ва, 3Бб
 D. 1Ва, 2Вв, 3Аб E. 1Вб, 2Ав, 3Ба

48. Дэлхий дээрх хоёр цэгийн хоорондох хамгийн богино буюу дөт агаарын зам нь дэлхийн бөмбөрцгийн их тойргийн нумын дагуу тодорхойлогдоно. Лос-Анжелос хотоос Сөүл хот руу шууд нислэг хийхэд аль зүг рүү хөөрвөл илүү дөт зам байх вэ? /2 оноо/

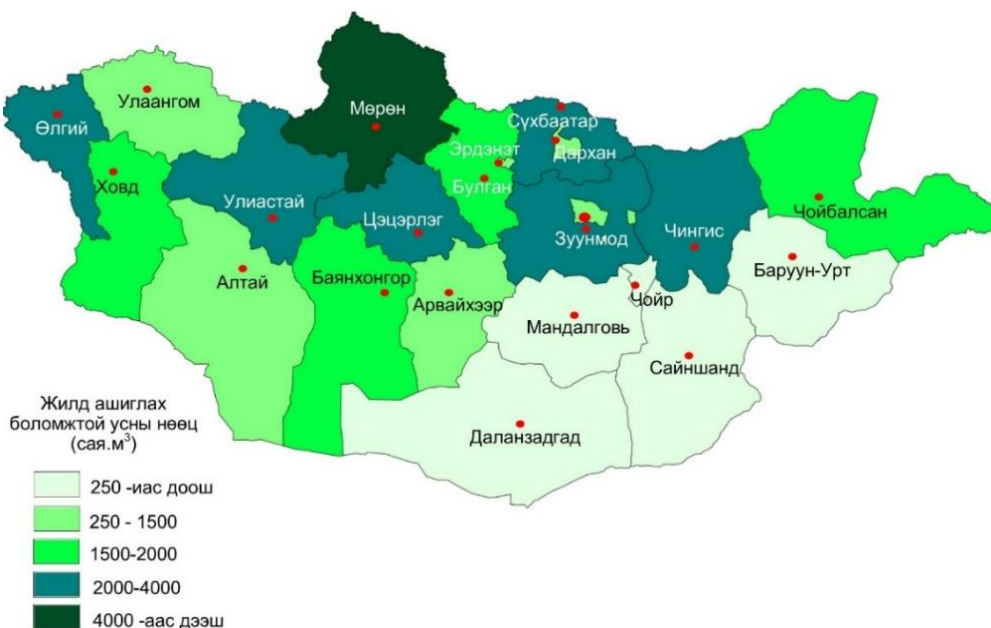


- A. Зүүн өмнөд зүг рүү
- B. Зүүн хойд зүг рүү
- C. Баруун өмнөд зүг рүү
- D. Баруун хойд зүг рүү
- E. Өмнөд зүг рүү

49. Гималай нурууны өвөрт орших Черрапунжид жилд 12000 мм тунадас унах бөгөөд уурших чадвар нь 1550 бол чийглэг байдлыг тооцоолно уу. ($K=r/E$. r -тунадасны нийлбэр, E -уурших чадвар) /2 оноо/

- A. 0.1
- B. 0.7
- C. 7.7
- D. 0.8
- E. 1.3

50. Монгол орны гадаргын усны нөөц хамгийн багатай аймаг болон хамаарах гол мөрдийн ай савыг зөв тодорхойлсон хариултыг сонгоно уу. /2 оноо/



- A. Завхан - Номхон далайн ай сав
- B. Өмнөговь -Төв Азийн гадагш урсгалгүй ай сав
- C. Ховд - Төв Азийн гадагш урсгалгүй ай сав
- D. Дорнод - Номхон далайн ай сав
- E. Өвөрхангай - Хойд мөсөн далайн ай сав

ХОЁРДУГААР ХЭСЭГ

САНАМЖ:

1. Энэ хэсэг сонгох даалгавар биш тул харгалзаа /хариу, бодолт/-г зөв тогтоож, хариуг бөглөөрэй.
2. Хоёрдугаар хэсгийн бодлогын хариуг хариултын хуудасны хоёрдугаар хэсэгт доорх хэлбэрээр бөглөхийг анхаарна уу. Жишээлбэл: Бодлогын хариу 1234 гарсан гэж үзвэл $a=1$ $b=2$ $c=3$ $d=4$ гэж бөглөнө.
3. Хэрэв бодлогын хариу бутархай тоо байвал бодлого тус бүрийн хариултын загварын дагуу бөглөнө. Жишээлбэл: Бодлогын хариу 45.67 гарсан гэж үзвэл тухайн бодлогын хариулт бөглөх загварыг [ab.cd] гэсэн байдлаар өгсөн байна. Дээрх хариуг бөглөхдөө $a=4$ $b=5$ $c=6$ $d=7$ гэж бөглөнө.
4. Зөв харгалзуулсан хариулт бүр 1 оноотой.

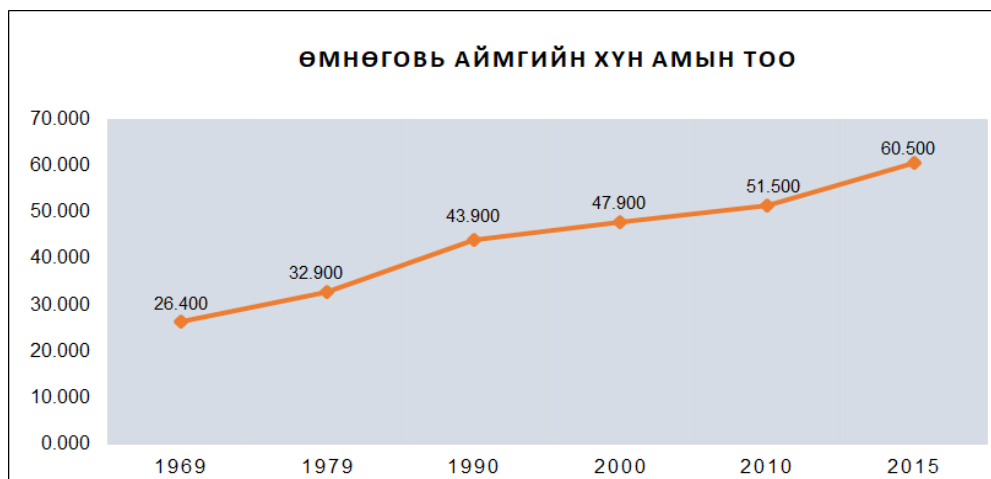
2.1. $3У105^0$ дээр орших А хотод баасан гарагийн 12 цаг болж байв. Тэгвэл $3У15^0$ дээр орших Б хотод ямар гарагийн хэдэн цаг болж байхыг тооцоолно уу. **/6 оноо/**

A. Цагийг тооцох [a] /4 оноо/

B. Гараг нэрлэх [b] /2 оноо/

1. Баасан 2. Лхагва 3. Даваа 4. Бямба 5. Пүрэв

2.2. Графикийг ашиглан дараах асуултад хариулна уу. **/6 оноо/**



A. 2000-2010 оны хооронд Өмнөговь аймгийн хүн ам 1 жилд хэдээр өссөн бэ? [abc] /3 оноо/

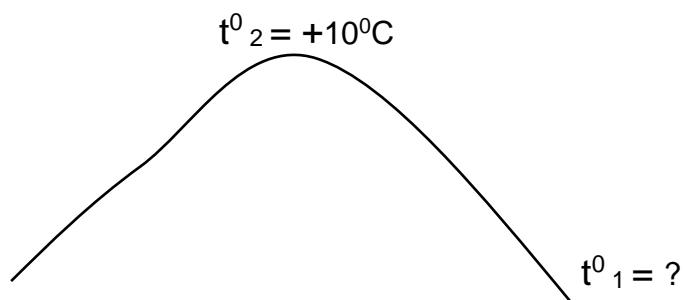
B. Хүн ам хэдээс хэдэн оны хооронд хамгийн их өсөлттэй байсан бэ? [d] /3 оноо/

1. 1969-1979 он 2. 2010-2015 он 3. 1979-1990 он
4. 1990-2000 он 5. 2000-2010 он

2.3. Хурган нуураас зүүн хойш Ховд голын баруун талд орших Ховд (д.т.д 2737 м) уулын оройд агаарын температур $+10^{\circ}\text{C}$ байх үед уулын бэл (д.т.д 1737 м)-д хэдэн хэм байх вэ?

/6 оноо/

Агаарын температур 100 м өндөрсөх тутамд 0.6°C -ээр буурна.



A. Агаарын температур

[ab] $^{\circ}\text{C}$

/2 оноо/

B. Харьцангуй өндрийг бодож олоорой.

[cdef] м

/2 оноо/

C. Хотгор гүдгэрийн хэв шинжийн аль ангилалд багтахыг сонгоно уу.

[g]

/2 оноо/

1. Өндөр уул

2. Дундаж өндөр уул

3. Нам уул

4. Цав толгод

5. Ухаа гүвээ

2.4. Далай, тэнгисийн тухай ойлголтуудыг зөв хариутай нь харгалзуулна уу.

[a], [b], [c], [d], [e], [f] /6 оноо/

a	Далай, тэнгисийн усны түвшин тодорхой хугацаанд буурах үзэгдэл	1	Давсжилт
b	Хойд мөсөн далайг Номхон далайгаас тусгаарладаг хоолой	2	Гольфстрим
c	Далай тэнгисийн усан дахь давсны хэмжээ ба найрлага	3	Татралт
d	Хойд Атлантын далайн үндсэн гол урсгал	4	Тасман
e	Австрали болон Шинэ Зеланд улсуудын хооронд орших тэнгис	5	Гвиней
f	Африк тивийн баруун эрэгт экваторын шугам дагуу орших булан	6	Беринг
		7	Номхон